

1º PARCIAL VIRTUAL 2020 - SOLUCIONES

- ❖ Dada la siguiente función $f(x) = \sqrt{3x^2 - 12}$, hallar sus asíntotas.

Solución:

$$\text{Dom } f = (-\infty; -2]; [2; \infty)$$

No tiene asíntotas verticales

Posibles asíntotas no verticales:

Si $x \rightarrow \infty$

$$\begin{aligned} m &= \lim_{x \rightarrow \infty} \frac{\sqrt{3x^2 - 12}}{x} = \lim_{x \rightarrow \infty} \frac{\sqrt{3x^2 - 12}}{\sqrt{x^2}} = \lim_{x \rightarrow \infty} \sqrt{\frac{3x^2 - 12}{x^2}} = \sqrt{\lim_{x \rightarrow \infty} \frac{3x^2 - 12}{x^2}} = \sqrt{\lim_{x \rightarrow \infty} \frac{3x^2}{x^2}} = \\ &= \sqrt{\lim_{x \rightarrow \infty} 3} = \sqrt{3} \end{aligned}$$

$$\begin{aligned} b &= \lim_{x \rightarrow \infty} \sqrt{3x^2 - 12} - \sqrt{3}x = \lim_{x \rightarrow \infty} (\sqrt{3x^2 - 12} - \sqrt{3}x) \cdot \frac{(\sqrt{3x^2 - 12} + \sqrt{3}x)}{(\sqrt{3x^2 - 12} + \sqrt{3}x)} = \\ &= \lim_{x \rightarrow \infty} \frac{3x^2 - 12 - 3x^2}{(\sqrt{3x^2 - 12} + \sqrt{3}x)} = \lim_{x \rightarrow \infty} \frac{-12}{(\sqrt{3x^2 - 12} + \sqrt{3}x)} = \frac{-12}{\infty + \infty} = \frac{-12}{\infty} = 0 \end{aligned}$$

Existe asíntota no vertical $y = \sqrt{3}x + 0 \Leftrightarrow y = \sqrt{3}x$ para $x \rightarrow \infty$

Si $x \rightarrow -\infty$

$$\begin{aligned} m &= \lim_{x \rightarrow -\infty} \frac{\sqrt{3x^2 - 12}}{x} = \lim_{x \rightarrow -\infty} \frac{\sqrt{3x^2 - 12}}{-\sqrt{x^2}} = \lim_{x \rightarrow -\infty} -\sqrt{\frac{3x^2 - 12}{x^2}} = -\sqrt{\lim_{x \rightarrow -\infty} \frac{3x^2 - 12}{x^2}} = \\ &= -\sqrt{\lim_{x \rightarrow -\infty} \frac{3x^2}{x^2}} = -\sqrt{\lim_{x \rightarrow -\infty} 3} = -\sqrt{3} \end{aligned}$$

$$\begin{aligned} b &= \lim_{x \rightarrow -\infty} \sqrt{3x^2 - 12} + \sqrt{3}x = \lim_{x \rightarrow -\infty} (\sqrt{3x^2 - 12} + \sqrt{3}x) \cdot \frac{(\sqrt{3x^2 - 12} - \sqrt{3}x)}{(\sqrt{3x^2 - 12} - \sqrt{3}x)} = \\ &= \lim_{x \rightarrow -\infty} \frac{3x^2 - 12 - 3x^2}{(\sqrt{3x^2 - 12} - \sqrt{3}x)} = \lim_{x \rightarrow -\infty} \frac{-12}{(\sqrt{3x^2 - 12} - \sqrt{3}x)} = \frac{-12}{\infty - (-\infty)} = \frac{-12}{\infty} = 0 \end{aligned}$$

Existe asíntota no vertical $y = -\sqrt{3}x + 0 \Leftrightarrow y = -\sqrt{3}x$ para $x \rightarrow -\infty$

- ❖ Dada la siguiente función $f(x) = \sqrt{2x^2 - 18}$, hallar sus asíntotas.

Solución:

$$\text{Dom } f = (-\infty; -3]; [3; \infty)$$

No tiene asíntotas verticales

Posibles asíntotas no verticales:

Si $x \rightarrow \infty$

$$m = \lim_{x \rightarrow \infty} \frac{\sqrt{2x^2 - 18}}{x} = \lim_{x \rightarrow \infty} \frac{\sqrt{2x^2 - 18}}{\sqrt{x^2}} = \lim_{x \rightarrow \infty} \sqrt{\frac{2x^2 - 18}{x^2}} = \sqrt{\lim_{x \rightarrow \infty} \frac{2x^2 - 18}{x^2}} = \sqrt{\lim_{x \rightarrow \infty} \frac{2x^2}{x^2}} = \sqrt{\lim_{x \rightarrow \infty} 2} = \sqrt{2}$$

$$b = \lim_{x \rightarrow \infty} \sqrt{2x^2 - 18} - \sqrt{2}x = \lim_{x \rightarrow \infty} (\sqrt{2x^2 - 18} - \sqrt{2}x) \cdot \frac{(\sqrt{2x^2 - 18} + \sqrt{2}x)}{(\sqrt{2x^2 - 18} + \sqrt{2}x)} = \\ = \lim_{x \rightarrow \infty} \frac{2x^2 - 18 - 2x^2}{(\sqrt{2x^2 - 18} + \sqrt{2}x)} = \lim_{x \rightarrow \infty} \frac{-18}{(\sqrt{2x^2 - 18} + \sqrt{2}x)} = \frac{-18}{\infty + \infty} = \frac{-18}{\infty} = 0$$

Existe asíntota no vertical $y = \sqrt{2}x + 0 \Leftrightarrow y = \sqrt{2}x$ para $x \rightarrow \infty$

Si $x \rightarrow -\infty$

$$m = \lim_{x \rightarrow -\infty} \frac{\sqrt{2x^2 - 18}}{x} = \lim_{x \rightarrow -\infty} \frac{\sqrt{2x^2 - 18}}{-\sqrt{x^2}} = \lim_{x \rightarrow -\infty} -\sqrt{\frac{2x^2 - 18}{x^2}} = -\sqrt{\lim_{x \rightarrow -\infty} \frac{2x^2 - 18}{x^2}} = \\ = -\sqrt{\lim_{x \rightarrow -\infty} \frac{2x^2}{x^2}} = -\sqrt{\lim_{x \rightarrow -\infty} 2} = -\sqrt{2}$$

$$b = \lim_{x \rightarrow -\infty} \sqrt{2x^2 - 18} + \sqrt{2}x = \lim_{x \rightarrow -\infty} (\sqrt{2x^2 - 18} + \sqrt{2}x) \cdot \frac{(\sqrt{2x^2 - 18} - \sqrt{2}x)}{(\sqrt{2x^2 - 18} - \sqrt{2}x)} = \\ = \lim_{x \rightarrow -\infty} \frac{2x^2 - 18 - 2x^2}{(\sqrt{2x^2 - 18} - \sqrt{2}x)} = \lim_{x \rightarrow -\infty} \frac{-18}{(\sqrt{2x^2 - 18} - \sqrt{2}x)} = \frac{-18}{\infty - (-\infty)} = \frac{-18}{\infty} = 0$$

Existe asíntota no vertical $y = -\sqrt{2}x + 0 \Leftrightarrow y = -\sqrt{2}x$ para $x \rightarrow -\infty$

- ❖ Dada la siguiente función $f(x) = \sqrt{\frac{1}{2}x^2 - 2}$, hallar sus asíntotas.

Solución:

$$\text{Dom } f = (-\infty; -2]; [2; \infty)$$

No tiene asíntotas verticales

Posibles asíntotas no verticales:

Si $x \rightarrow \infty$

$$m = \lim_{x \rightarrow \infty} \frac{\sqrt{\frac{1}{2}x^2 - 2}}{x} = \lim_{x \rightarrow \infty} \frac{\sqrt{\frac{1}{2}x^2 - 2}}{\sqrt{x^2}} = \lim_{x \rightarrow \infty} \sqrt{\frac{\frac{1}{2}x^2 - 2}{x^2}} = \sqrt{\lim_{x \rightarrow \infty} \frac{\frac{1}{2}x^2 - 2}{x^2}} = \sqrt{\lim_{x \rightarrow \infty} \frac{\frac{1}{2}x^2}{x^2}} = \\ = \sqrt{\lim_{x \rightarrow \infty} \frac{1}{2}} = \sqrt{\frac{1}{2}} = \frac{1}{\sqrt{2}} = \frac{\sqrt{2}}{2}$$

$$b = \lim_{x \rightarrow \infty} \sqrt{\frac{1}{2}x^2 - 2} - \frac{\sqrt{2}}{2}x = \lim_{x \rightarrow \infty} \left(\sqrt{\frac{1}{2}x^2 - 2} - \frac{\sqrt{2}}{2}x \right) \cdot \frac{\left(\frac{1}{2}x^2 - 2 + \frac{\sqrt{2}}{2}x \right)}{\left(\frac{1}{2}x^2 - 2 + \frac{\sqrt{2}}{2}x \right)} =$$

$$= \lim_{x \rightarrow \infty} \frac{\frac{1}{2}x^2 - 2 - \frac{1}{2}x^2}{\left(\sqrt{\frac{1}{2}x^2 - 2} + \frac{\sqrt{2}}{2}x \right)} = \lim_{x \rightarrow \infty} \frac{-2}{\left(\sqrt{\frac{1}{2}x^2 - 2} + \frac{\sqrt{2}}{2}x \right)} = \frac{-2}{\infty + \infty} = \frac{-2}{\infty} = 0$$

Existe asíntota no vertical $y = \frac{\sqrt{2}}{2}x + 0 \Leftrightarrow y = \frac{\sqrt{2}}{2}x$ para $x \rightarrow \infty$

Si $x \rightarrow \infty$

$$m = \lim_{x \rightarrow -\infty} \frac{\sqrt{\frac{1}{2}x^2 - 2}}{x} = \lim_{x \rightarrow -\infty} \frac{\sqrt{\frac{1}{2}x^2 - 2}}{-\sqrt{x^2}} = \lim_{x \rightarrow -\infty} -\sqrt{\frac{\frac{1}{2}x^2 - 2}{x^2}} = -\sqrt{\lim_{x \rightarrow -\infty} \frac{\frac{1}{2}x^2 - 2}{x^2}} = -\sqrt{\lim_{x \rightarrow -\infty} \frac{\frac{1}{2}x^2}{x^2}} =$$

$$= -\sqrt{\lim_{x \rightarrow -\infty} \frac{1}{2}} = -\sqrt{\frac{1}{2}} = \frac{-1}{\sqrt{2}} = \frac{-\sqrt{2}}{2}$$

$$b = \lim_{x \rightarrow -\infty} \sqrt{\frac{1}{2}x^2 - 2} + \frac{\sqrt{2}}{2}x = \lim_{x \rightarrow -\infty} \left(\sqrt{\frac{1}{2}x^2 - 2} + \frac{\sqrt{2}}{2}x \right) \cdot \frac{\left(\frac{1}{2}x^2 - 2 - \frac{\sqrt{2}}{2}x \right)}{\left(\frac{1}{2}x^2 - 2 - \frac{\sqrt{2}}{2}x \right)} =$$

$$= \lim_{x \rightarrow -\infty} \frac{\frac{1}{2}x^2 - 2 - \frac{1}{2}x^2}{\left(\sqrt{\frac{1}{2}x^2 - 2} - \frac{\sqrt{2}}{2}x \right)} = \lim_{x \rightarrow -\infty} \frac{-2}{\left(\sqrt{\frac{1}{2}x^2 - 2} - \frac{\sqrt{2}}{2}x \right)} = \frac{-2}{\infty - (-\infty)} = \frac{-2}{\infty} = 0$$

Existe asíntota no vertical $y = \frac{-\sqrt{2}}{2}x + 0 \Leftrightarrow y = \frac{-\sqrt{2}}{2}x$ para $x \rightarrow -\infty$

❖ Dada la siguiente función $f(x) = \sqrt{3x^2 - 27}$, hallar sus asíntotas.

Solución:

$$\text{Dom } f = (-\infty; -3]; [3; \infty)$$

No tiene asíntotas verticales

Posibles asíntotas no verticales:

Si $x \rightarrow \infty$

$$m = \lim_{x \rightarrow \infty} \frac{\sqrt{3x^2 - 27}}{x} = \lim_{x \rightarrow \infty} \frac{\sqrt{3x^2 - 27}}{\sqrt{x^2}} = \lim_{x \rightarrow \infty} \sqrt{\frac{3x^2 - 27}{x^2}} = \sqrt{\lim_{x \rightarrow \infty} \frac{3x^2 - 27}{x^2}} = \sqrt{\lim_{x \rightarrow \infty} \frac{3x^2}{x^2}} =$$

$$= \sqrt{\lim_{x \rightarrow \infty} 3} = \sqrt{3}$$

$$\begin{aligned}
 b &= \lim_{x \rightarrow \infty} \sqrt{3x^2 - 27} - \sqrt{3}x = \lim_{x \rightarrow \infty} (\sqrt{3x^2 - 27} - \sqrt{3}x) \cdot \frac{(\sqrt{3x^2 - 27} + \sqrt{3}x)}{(\sqrt{3x^2 - 27} + \sqrt{3}x)} = \\
 &= \lim_{x \rightarrow \infty} \frac{3x^2 - 27 - 3x^2}{(\sqrt{3x^2 - 27} + \sqrt{3}x)} = \lim_{x \rightarrow \infty} \frac{-27}{(\sqrt{3x^2 - 27} + \sqrt{3}x)} = \frac{-27}{\infty + \infty} = \frac{-27}{\infty} = 0
 \end{aligned}$$

Existe asíntota no vertical $y = \sqrt{3}x + 0 \Leftrightarrow y = \sqrt{3}x$ para $x \rightarrow \infty$

Si $x \rightarrow -\infty$

$$\begin{aligned}
 m &= \lim_{x \rightarrow -\infty} \frac{\sqrt{3x^2 - 27}}{x} = \lim_{x \rightarrow -\infty} \frac{\sqrt{3x^2 - 27}}{-\sqrt{x^2}} = \lim_{x \rightarrow -\infty} -\sqrt{\frac{3x^2 - 27}{x^2}} = -\sqrt{\lim_{x \rightarrow -\infty} \frac{3x^2 - 27}{x^2}} = \\
 &= -\sqrt{\lim_{x \rightarrow -\infty} \frac{3x^2}{x^2}} = -\sqrt{\lim_{x \rightarrow -\infty} 3} = -\sqrt{3}
 \end{aligned}$$

$$\begin{aligned}
 b &= \lim_{x \rightarrow -\infty} \sqrt{3x^2 - 27} + \sqrt{3}x = \lim_{x \rightarrow -\infty} (\sqrt{3x^2 - 27} + \sqrt{3}x) \cdot \frac{(\sqrt{3x^2 - 27} - \sqrt{3}x)}{(\sqrt{3x^2 - 27} - \sqrt{3}x)} = \\
 &= \lim_{x \rightarrow -\infty} \frac{3x^2 - 27 - 3x^2}{(\sqrt{3x^2 - 27} - \sqrt{3}x)} = \lim_{x \rightarrow -\infty} \frac{-27}{(\sqrt{3x^2 - 27} - \sqrt{3}x)} = \frac{-27}{\infty - (-\infty)} = \frac{-27}{\infty} = 0
 \end{aligned}$$

Existe asíntota no vertical $y = -\sqrt{3}x + 0 \Leftrightarrow y = -\sqrt{3}x$ para $x \rightarrow -\infty$

❖ Dada la siguiente función $f(x) = \sqrt{2x^2 - 8}$, hallar sus asíntotas.

Solución:

$$Dom f = (-\infty; -2]; [2; \infty)$$

No tiene asíntotas verticales

Posibles asíntotas no verticales:

Si $x \rightarrow \infty$

$$\begin{aligned}
 m &= \lim_{x \rightarrow \infty} \frac{\sqrt{2x^2 - 8}}{x} = \lim_{x \rightarrow \infty} \frac{\sqrt{2x^2 - 8}}{\sqrt{x^2}} = \lim_{x \rightarrow \infty} \sqrt{\frac{2x^2 - 8}{x^2}} = \sqrt{\lim_{x \rightarrow \infty} \frac{2x^2 - 8}{x^2}} = \sqrt{\lim_{x \rightarrow \infty} \frac{2x^2}{x^2}} = \\
 &= \sqrt{\lim_{x \rightarrow \infty} 2} = \sqrt{2}
 \end{aligned}$$

$$\begin{aligned}
 b &= \lim_{x \rightarrow \infty} \sqrt{2x^2 - 8} - \sqrt{2}x = \lim_{x \rightarrow \infty} (\sqrt{2x^2 - 8} - \sqrt{2}x) \cdot \frac{(\sqrt{2x^2 - 8} + \sqrt{2}x)}{(\sqrt{2x^2 - 8} + \sqrt{2}x)} = \\
 &= \lim_{x \rightarrow \infty} \frac{2x^2 - 8 - 2x^2}{(\sqrt{2x^2 - 8} + \sqrt{2}x)} = \lim_{x \rightarrow \infty} \frac{-8}{(\sqrt{2x^2 - 8} + \sqrt{2}x)} = \frac{-8}{\infty + \infty} = \frac{-8}{\infty} = 0
 \end{aligned}$$

Existe asíntota no vertical $y = \sqrt{2}x + 0 \Leftrightarrow y = \sqrt{2}x$ para $x \rightarrow \infty$

Si $x \rightarrow -\infty$

$$m = \lim_{x \rightarrow -\infty} \frac{\sqrt{2x^2 - 8}}{x} = \lim_{x \rightarrow -\infty} \frac{\sqrt{2x^2 - 8}}{-\sqrt{x^2}} = \lim_{x \rightarrow -\infty} -\sqrt{\frac{2x^2 - 8}{x^2}} = -\sqrt{\lim_{x \rightarrow -\infty} \frac{2x^2 - 8}{x^2}} = -\sqrt{\lim_{x \rightarrow -\infty} \frac{2x^2}{x^2}}$$
$$= -\sqrt{\lim_{x \rightarrow -\infty} 2} = -\sqrt{2}$$

$$b = \lim_{x \rightarrow -\infty} \sqrt{2x^2 - 8} + \sqrt{2}x = \lim_{x \rightarrow -\infty} (\sqrt{2x^2 - 8} + \sqrt{2}x) \cdot \frac{(\sqrt{2x^2 - 8} - \sqrt{2}x)}{(\sqrt{2x^2 - 8} - \sqrt{2}x)} =$$
$$= \lim_{x \rightarrow -\infty} \frac{2x^2 - 8 - 2x^2}{(\sqrt{2x^2 - 8} - \sqrt{2}x)} = \lim_{x \rightarrow -\infty} \frac{-8}{(\sqrt{2x^2 - 8} - \sqrt{2}x)} = \frac{-8}{\infty - (-\infty)} = \frac{-8}{\infty} = 0$$

Existe asíntota no vertical $y = -\sqrt{2}x + 0 \Leftrightarrow y = -\sqrt{2}x$ para $x \rightarrow -\infty$

❖ Dada la siguiente función $f(x) = \sqrt{\frac{1}{3}x^2 - 3}$, hallar sus asíntotas.

Solución:

$$\text{Dom } f = (-\infty; -3]; [3; \infty)$$

No tiene asíntotas verticales

Posibles asíntotas no verticales:

Si $x \rightarrow \infty$

$$m = \lim_{x \rightarrow \infty} \frac{\sqrt{\frac{1}{3}x^2 - 3}}{x} = \lim_{x \rightarrow \infty} \frac{\sqrt{\frac{1}{3}x^2 - 3}}{\sqrt{x^2}} = \lim_{x \rightarrow \infty} \sqrt{\frac{\frac{1}{3}x^2 - 3}{x^2}} = \sqrt{\lim_{x \rightarrow \infty} \frac{\frac{1}{3}x^2 - 3}{x^2}} = \sqrt{\lim_{x \rightarrow \infty} \frac{\frac{1}{3}x^2}{x^2}} =$$
$$= \sqrt{\lim_{x \rightarrow \infty} \frac{1}{3}} = \sqrt{\frac{1}{3}} = \frac{1}{\sqrt{3}} = \frac{\sqrt{3}}{3}$$

$$b = \lim_{x \rightarrow \infty} \sqrt{\frac{1}{3}x^2 - 3} - \frac{\sqrt{3}}{3}x = \lim_{x \rightarrow \infty} \left(\sqrt{\frac{1}{3}x^2 - 3} - \frac{\sqrt{3}}{3}x \right) \cdot \frac{\left(\sqrt{\frac{1}{3}x^2 - 3} + \frac{\sqrt{3}}{3}x \right)}{\left(\sqrt{\frac{1}{3}x^2 - 3} + \frac{\sqrt{3}}{3}x \right)} =$$
$$= \lim_{x \rightarrow \infty} \frac{\frac{1}{3}x^2 - 3 - \frac{1}{2}x^2}{\left(\sqrt{\frac{1}{3}x^2 - 3} + \frac{\sqrt{3}}{3}x \right)} = \lim_{x \rightarrow \infty} \frac{-3}{\left(\sqrt{\frac{1}{3}x^2 - 3} + \frac{\sqrt{3}}{3}x \right)} = \frac{-3}{\infty + \infty} = \frac{-3}{\infty} = 0$$

Existe asíntota no vertical $y = \frac{\sqrt{3}}{3}x + 0 \Leftrightarrow y = \frac{\sqrt{3}}{3}x$ para $x \rightarrow \infty$

$$\begin{aligned}
 \text{Si } x \rightarrow \infty \\
 m = \lim_{x \rightarrow -\infty} \frac{\sqrt{\frac{1}{3}x^2 - 3}}{x} &= \lim_{x \rightarrow -\infty} \frac{\sqrt{\frac{1}{3}x^2 - 3}}{-\sqrt{x^2}} = \lim_{x \rightarrow -\infty} -\sqrt{\frac{\frac{1}{3}x^2 - 3}{x^2}} = -\sqrt{\lim_{x \rightarrow -\infty} \frac{\frac{1}{3}x^2 - 3}{x^2}} = -\sqrt{\lim_{x \rightarrow -\infty} \frac{\frac{1}{3}x^2}{x^2}} = \\
 &= -\sqrt{\lim_{x \rightarrow -\infty} \frac{1}{3}} = -\sqrt{\frac{1}{3}} = \frac{-1}{\sqrt{3}} = \frac{-\sqrt{3}}{3}
 \end{aligned}$$

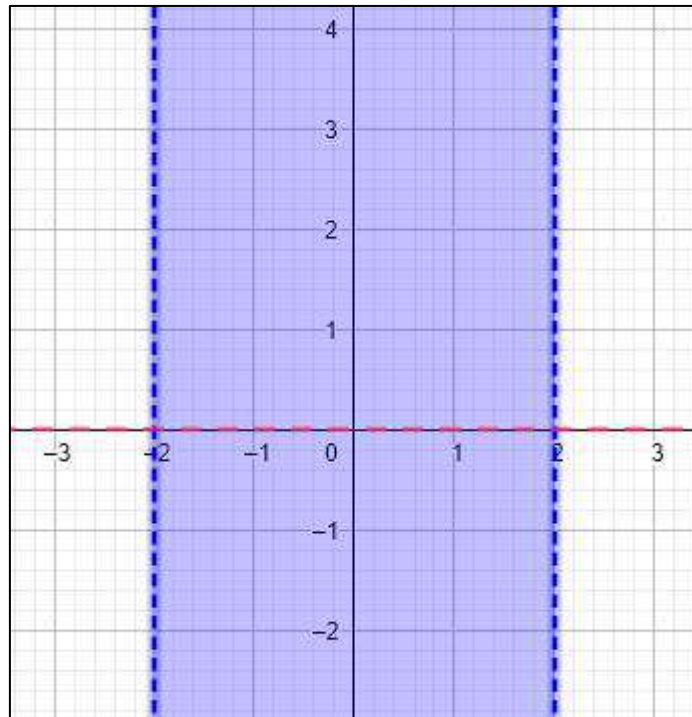
$$\begin{aligned}
 b = \lim_{x \rightarrow -\infty} \sqrt{\frac{1}{3}x^2 - 3} + \frac{\sqrt{3}}{3}x &= \lim_{x \rightarrow -\infty} \left(\sqrt{\frac{1}{3}x^2 - 3} + \frac{\sqrt{3}}{3}x \right) \cdot \frac{\left(\frac{1}{3}x^2 - 3 - \frac{\sqrt{3}}{3}x \right)}{\left(\frac{1}{3}x^2 - 3 - \frac{\sqrt{3}}{3}x \right)} = \\
 &= \lim_{x \rightarrow -\infty} \frac{\frac{1}{3}x^2 - 3 - \frac{1}{3}x^2}{\left(\sqrt{\frac{1}{3}x^2 - 3} - \frac{\sqrt{3}}{3}x \right)} = \lim_{x \rightarrow -\infty} \frac{-3}{\left(\sqrt{\frac{1}{3}x^2 - 3} - \frac{\sqrt{3}}{3}x \right)} = \frac{-3}{\infty - (-\infty)} = \frac{-3}{\infty} = 0
 \end{aligned}$$

Existe asíntota no vertical $y = \frac{-\sqrt{3}}{3}x + 0 \Leftrightarrow y = \frac{-\sqrt{3}}{3}x$ para $x \rightarrow -\infty$

❖ Indicar y graficar el conjunto de definición:

$$f(x; y) = (8 - 2x^2)^{1/2y}$$

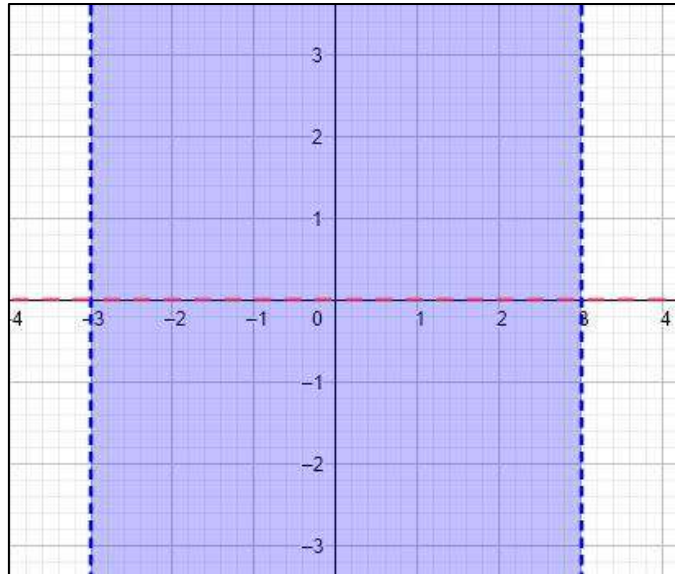
$$\text{Dom}f = \{(x, y) \in \mathbb{R}^2 : (8 - 2x^2) > 0 \text{ e } y \neq 0\}$$



❖ Indicar y graficar el conjunto de definición:

$$f(x; y) = (27 - 3x^2)^{1/3y}$$

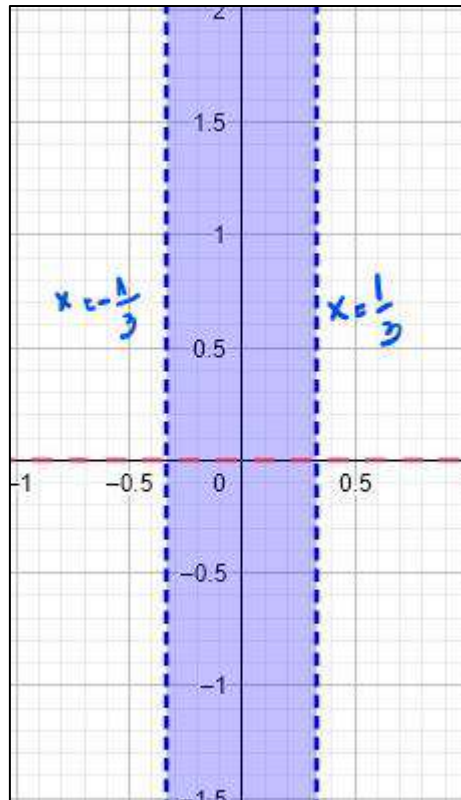
$$\text{Dom}f = \{(x, y) \in \mathbb{R}^2 : (27 - 3x^2) > 0 \text{ e } y \neq 0\}$$



❖ Indicar y graficar el conjunto de definición:

$$f(x; y) = (3 - 27x^2)^{3/y}$$

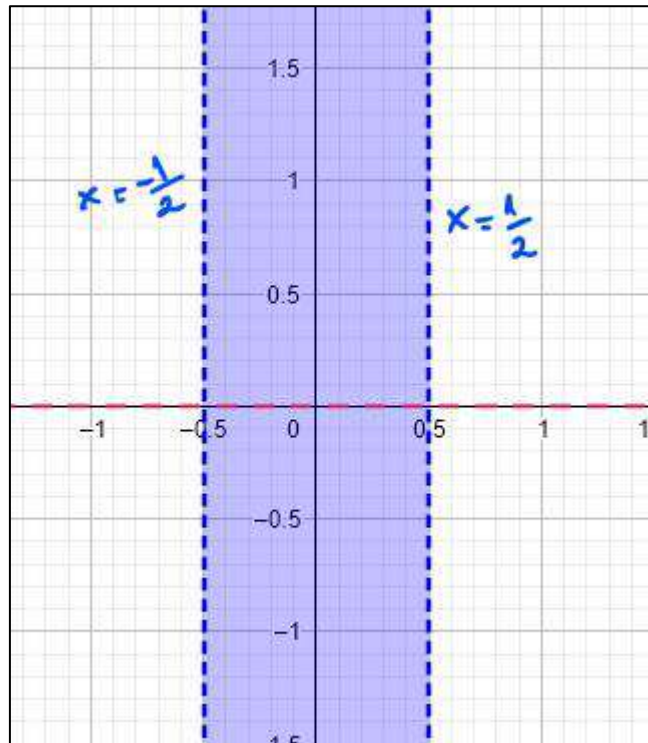
$$\text{Dom}f = \{(x, y) \in \mathbb{R}^2 : (3 - 27x^2) > 0 \text{ e } y \neq 0\}$$



❖ Indicar y graficar el conjunto de definición:

$$f(x; y) = (2 - 8x^2)^{2/y}$$

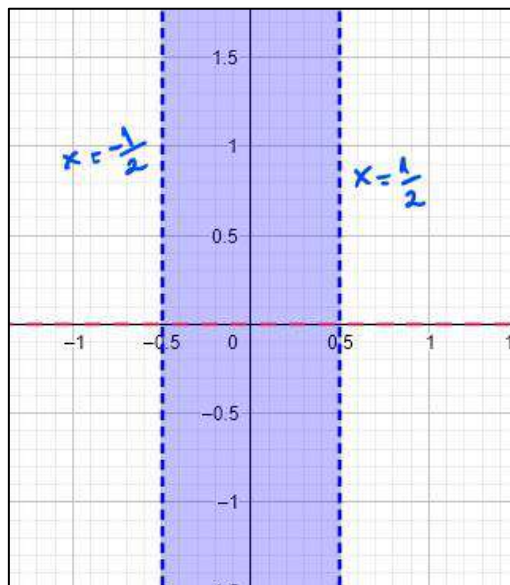
$$\text{Dom}f = \{(x, y) \in \mathbb{R}^2 : (2 - 8x^2) > 0 \text{ e } y \neq 0\}$$



❖ Indicar y graficar el conjunto de definición:

$$f(x; y) = \left(\frac{1}{2} - 2x^2\right)^{1/2y}$$

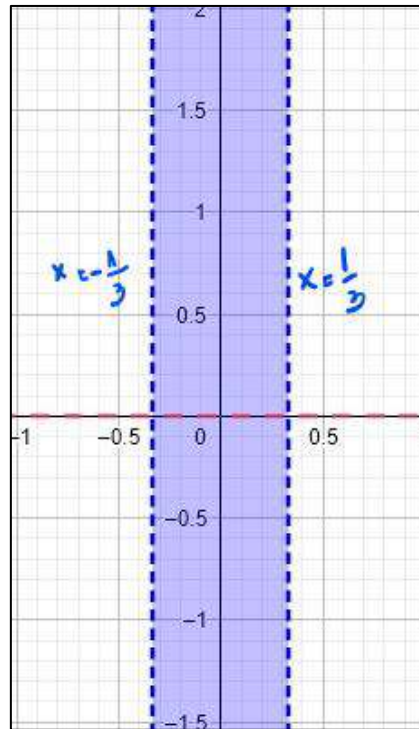
$$\text{Dom}f = \left\{(x, y) \in \mathbb{R}^2 : \left(\frac{1}{2} - 2x^2\right) > 0 \text{ e } y \neq 0\right\}$$



❖ Indicar y graficar el conjunto de definición:

$$f(x; y) = \left(\frac{1}{3} - 3x^2\right)^{1/3y}$$

$$\text{Dom}f = \left\{ (x, y) \in \mathbb{R}^2 : \left(\frac{1}{3} - 3x^2\right) > 0 \text{ e } y \neq 0 \right\}$$



❖ Encuentre la ecuación de la recta tangente a la curva definida por $y^2 + x \cdot y - x^2 = 5$ en el punto de abscisa $x = 4$ y ordenada negativa

Solución:

$$y - y_0 = y'(x_0, y_0)(x - x_0)$$

$$y - (-7) = \frac{-3}{2}(x - 4)$$

$$y + 7 = \frac{-3}{2}x + 6$$

$$y = \frac{-3}{2}x + 6 - 7$$

$$y = \frac{-3}{2}x - 1$$

$$\begin{aligned} y_0^2 + x_0 \cdot y_0 - x_0^2 &= 5 \\ y_0^2 + 4 \cdot y_0 - 16 &= 5 \\ y_0^2 + 4 \cdot y_0 - 21 &= 0 \\ a &= 1 ; b = 4 ; c = -21 \\ y_{1-2} &= \frac{-b \pm \sqrt{b^2 - 4ac}}{2a} \\ y_{1-2} &= \frac{-4 \pm \sqrt{16 - 4 \cdot 1 \cdot (-21)}}{2 \cdot 1} \\ y_{1-2} &= \frac{-4 \pm \sqrt{16 + 84}}{2} \\ y_{1-2} &= \frac{-4 \pm \sqrt{100}}{2} = \frac{-4 \pm 10}{2} \\ y_0 &= \frac{-4 - 10}{2} = \frac{-14}{2} = -7 \end{aligned}$$

$$\begin{aligned} y^2 + x \cdot y - x^2 &= 5 \\ 2yy' + y + xy' - 2x &= 0 \\ 2yy' + xy' &= 2x - y \\ (2y + x)y' &= 2x - y \\ y' &= \frac{2x - y}{2y + x} \\ y'(x_0, y_0) &= \frac{2x_0 - y_0}{2y_0 + x_0} \\ y'(x_0, y_0) &= \frac{2 \cdot 4 - (-7)}{2(-7) + 4} = \frac{8 + 7}{-14 + 4} \\ y'(x_0, y_0) &= \frac{15}{-10} = \frac{-3}{2} \end{aligned}$$

- ❖ Hallar la ecuación de la recta tangente a la curva dado por $x^2(x^2 + y^2) - y^2 = 0$ en el punto $\left(\frac{\sqrt{2}}{2}; \frac{\sqrt{2}}{2}\right)$.

Solución:

$$y - y_0 = y'(x_0, y_0)(x - x_0)$$

$$y - \frac{\sqrt{2}}{2} = 3 \left(x - \frac{\sqrt{2}}{2} \right)$$

$$y = 3x - \frac{3}{2}\sqrt{2} + \frac{\sqrt{2}}{2}$$

$$y = 3x - \sqrt{2}$$

$$x^2(x^2 + y^2) - y^2 = 0$$

$$2x(x^2 + y^2) + x^2(2x + 2yy') - 2yy' = 0$$

$$2x(x^2 + y^2) + 2x^3 + 2x^2yy' - 2yy' = 0$$

$$2x^2yy' - 2yy' = -2x(x^2 + y^2) - 2x^3$$

$$y' = \frac{-2x(x^2 + y^2) - 2x^3}{2x^2y - 2y}$$

$$y'(x_0, y_0) = \frac{-2x_0(x_0^2 + y_0^2) - 2x_0^3}{2x_0^2y_0 - 2y_0}$$

$$y'(x_0, y_0) = \frac{-2 \cdot \frac{\sqrt{2}}{2} \cdot \left[\left(\frac{\sqrt{2}}{2}\right)^2 + \left(\frac{\sqrt{2}}{2}\right)^2 \right] - 2 \cdot \left(\frac{\sqrt{2}}{2}\right)^3}{2 \cdot \left(\frac{\sqrt{2}}{2}\right)^2 \cdot \frac{\sqrt{2}}{2} - 2 \cdot \frac{\sqrt{2}}{2}}$$

$$y'(x_0, y_0) = \frac{-\sqrt{2} \cdot \left[\frac{2}{4} + \frac{2}{4} \right] - 2 \cdot \frac{2\sqrt{2}}{8}}{2 \cdot \frac{2}{4} \cdot \frac{\sqrt{2}}{2} - \sqrt{2}}$$

$$y'(x_0, y_0) = \frac{-\sqrt{2} - \frac{\sqrt{2}}{2}}{\frac{\sqrt{2}}{2} - \sqrt{2}} = \frac{-\frac{3}{2}\sqrt{2}}{-\frac{1}{2}\sqrt{2}} = 3$$

- ❖ Escribir la ecuación de la recta tangente a la curva $x^2 + y^2 = 16$ en el punto de abscisa $x_0 = 2$ y ordenada negativa.

Solución:

$$x^2 + y^2 = 16$$

$$2x + 2yy' = 0$$

$$y' = \frac{-2x}{2y} = \frac{-x}{y}$$

$$y'(x_0, y_0) = \frac{-x_0}{y_0} = \frac{-2}{-2\sqrt{3}} = \frac{1}{\sqrt{3}}$$

$$y'(x_0, y_0) = \frac{\sqrt{3}}{3}$$

$$x_0^2 + y_0^2 = 16$$

$$2^2 + y_0^2 = 16$$

$$4 + y_0^2 = 16$$

$$y_0^2 = 16 - 4$$

$$y_0^2 = 12$$

$$|y_0| = \sqrt{12} = 2\sqrt{3}$$

$$y_0 = -2\sqrt{3}$$

$$y - y_0 = y'(x_0, y_0)(x - x_0)$$

$$y - (-2\sqrt{3}) = \frac{\sqrt{3}}{3}(x - 2)$$

$$y + 2\sqrt{3} = \frac{\sqrt{3}}{3}x - \frac{2\sqrt{3}}{3}$$

$$y = \frac{\sqrt{3}}{3}x - \frac{2\sqrt{3}}{3} - 2\sqrt{3}$$

$$y = \frac{\sqrt{3}}{3}x - \frac{8\sqrt{3}}{3}$$

- ❖ Escribir la ecuación de la recta tangente a la curva $4x^2 + y^2 = 8$ en el punto de abscisa $x_0 = 1$ y ordenada negativa.

Solución:

$4x^2 + y^2 = 8$ $4x_0^2 + y_0^2 = 8$ $4 \cdot 1^2 + y_0^2 = 8$ $4 + y_0^2 = 8$ $y_0^2 = 8 - 4$ $y_0^2 = 4$ $ y_0 = \sqrt{4} = \pm 2$ $y_0 = -2$	$4x^2 + y^2 = 8$ $8x + 2yy' = 0$ $y' = \frac{-8x}{2y} = \frac{-4x}{y}$ $y'_{(x_0, y_0)} = \frac{-4x_0}{y_0} = \frac{-4 \cdot 1}{-2}$ $y'_{(x_0, y_0)} = 2$	$y - y_0 = y'_{(x_0, y_0)}(x - x_0)$ $y - (-2) = 2(x - 1)$ $y + 2 = 2x - 2$ $y = 2x - 2 - 2$ $y = 2x - 4$
---------------------------------------------------------------------------------------------------------------------------------------------------	------------------------------------------------------------------------------------------------------------------------------------------------------------	-----------------------------------------------------------------------------------------------------------

- ❖ Calcular el siguiente límite

$$\lim_{n \rightarrow +\infty} \left(\frac{2n+2}{2n+1} \right)^n = \sqrt{e}$$

$$t = 2n + 1; n = \frac{t-1}{2}; t \rightarrow +\infty$$

$$\lim_{n \rightarrow +\infty} \left(\frac{2n+2}{2n+1} \right)^n = \lim_{t \rightarrow +\infty} \left(\frac{t-1+2}{t} \right)^{\frac{t-1}{2}} = \lim_{t \rightarrow +\infty} \left(1 + \frac{1}{t} \right)^{\frac{t-1}{2}} = \lim_{t \rightarrow +\infty} \left(\left(1 + \frac{1}{t} \right)^t \right)^{1/2} \lim_{t \rightarrow +\infty} \left(1 + \frac{1}{t} \right)^{-1/2} = \sqrt{e}$$

- ❖ Calcular el siguiente límite

$$\lim_{n \rightarrow +\infty} \left(\frac{3n+2}{3n+1} \right)^n = \sqrt[3]{e}$$

$$t = 3n + 1; n = \frac{t-1}{3}; t \rightarrow +\infty$$

$$\lim_{n \rightarrow +\infty} \left(\frac{3n+2}{3n+1} \right)^n = \lim_{t \rightarrow +\infty} \left(\frac{t-1+2}{t} \right)^{\frac{t-1}{3}} = \lim_{t \rightarrow +\infty} \left(1 + \frac{1}{t} \right)^{\frac{t-1}{3}} = \lim_{t \rightarrow +\infty} \left(\left(1 + \frac{1}{t} \right)^t \right)^{1/3} \lim_{t \rightarrow +\infty} \left(1 + \frac{1}{t} \right)^{-1/3} = \sqrt[3]{e}$$

- ❖ Calcular el siguiente límite

$$\lim_{n \rightarrow +\infty} \left(\frac{n+3}{n+2} \right)^{n-3} = e$$

$$t = n + 2; n = t - 2; t \rightarrow +\infty$$

$$\lim_{n \rightarrow +\infty} \left(\frac{n+3}{n+2} \right)^{n-3} = \lim_{t \rightarrow +\infty} \left(\frac{t-2+3}{t} \right)^{t-5} = \lim_{t \rightarrow +\infty} \left(1 + \frac{1}{t} \right)^{t-5} = \lim_{t \rightarrow +\infty} \left(1 + \frac{1}{t} \right)^t \lim_{t \rightarrow +\infty} \left(1 + \frac{1}{t} \right)^{-5} = e^1 = e$$

❖ Calcular el siguiente limite

$$\lim_{x \rightarrow +\infty} \left(\frac{x+4}{x-5} \right)^{x-1} = e^9$$

$$t = x - 5; x = t + 5; t \rightarrow +\infty$$

$$\lim_{x \rightarrow +\infty} \left(\frac{x+4}{x-5} \right)^{x-1} = \lim_{t \rightarrow +\infty} \left(\frac{t+5+4}{t} \right)^{t+4} = \lim_{t \rightarrow +\infty} \left(1 + \frac{9}{t} \right)^{t+4} = \lim_{t \rightarrow +\infty} \left(1 + \frac{9}{t} \right)^t \lim_{t \rightarrow +\infty} \left(1 + \frac{1}{t} \right)^4 = e^9$$

❖ Calcular el siguiente limite

$$\lim_{x \rightarrow +\infty} \left(\frac{2x+4}{2x-5} \right)^x = e^{\frac{9}{2}}$$

$$t = 2x - 5; x = \frac{t+5}{2}; t \rightarrow +\infty$$

$$\lim_{x \rightarrow +\infty} \left(\frac{2x+4}{2x-5} \right)^x = \lim_{t \rightarrow +\infty} \left(\frac{t+5+4}{t} \right)^{\frac{t+5}{2}} = \lim_{t \rightarrow +\infty} \left(1 + \frac{9}{t} \right)^{\frac{t+5}{2}} = \lim_{t \rightarrow +\infty} \left(\left(1 + \frac{9}{t} \right)^t \right)^{1/2} \lim_{t \rightarrow +\infty} \left(1 + \frac{1}{t} \right)^{\frac{5}{2}} = e^{9/2}$$

❖ Hallar el monto que se obtendría de un capital de \$10.000 colocado a una tasa nominal anual del 15% durante 3 años con capitalización:

- Mensual
- Continua

Solución:

- $M = 10000 \left(1 + \frac{0.15}{12} \right)^{3.12} = 15639,9438$
- $M = 10000 \cdot e^{0.15 \cdot 3} = 15683,312$

❖ Para cierto producto, la función de demanda es $p = 300 - 2x$, y el costo promedio es

$$\bar{C} = x + \frac{2000}{x} + 60$$

- Determinar la función beneficio
- Decidir si existe el punto de no pérdida no ganancia. Justificar

Solución:

- $$\left. \begin{array}{l} \text{Si } p = 300 - 2x \text{ entonces } I(x) = 300x - 2x^2; \\ \text{Si } \bar{C} = x + \frac{2000}{x} + 60 \text{ entonces } C(x) = x^2 + 2000 + 60x \end{array} \right\} B(x) = -3x^2 + 240x - 2000$$
- $B(x) = 0 \Leftrightarrow -3x^2 + 240x - 2000 = 0 \Leftrightarrow x_1 = 9,45 ; x_2 = 70,55$

- ❖ Dadas las funciones $p = p(x) = \frac{8000}{x}$ y $p = p(x) = \frac{x}{40} + 10$ donde p indica el precio por unidad de un determinado bien y x la cantidad de ese bien ofrecida/demandada en el mercado.

a) Decidir cuál corresponde a una función de oferta y cuál a una de demanda. Justificar

$$p = p(x) = \frac{8000}{x} \text{ demanda, corresponde a una curva de hipérbola en el 1º cuadrante decreciente}$$

$$p = p(x) = \frac{x}{40} + 10 \text{ oferta, corresponde a una recta creciente ya que su pendiente es positiva}$$

b) obtener el punto de equilibrio.

$$\frac{8000}{x} = \frac{x}{40} + 10 \leftrightarrow 8000 = \frac{x^2}{40} + 10x \leftrightarrow \frac{x^2}{40} + 10x - 8000 = 0 \leftrightarrow x_1 = 400 ; x_2 = -800$$

$$\text{Si } x_e = 400 \rightarrow p_e = \frac{8000}{400} = 20. \text{ Resulta: P (400,20)}$$

- ❖ Una empresa familiar, decide vender sus productos por unidad a 8,35 UM cada uno; vendiendo todo lo producido. El costo fijo de producción asciende a 2116 UM y el costo variable a 7,25 UM por unidad. Se pide averiguar:

a) A qué nivel de producción se sufre una pérdida de 1150 UM

b) A qué nivel de producción ocurre el punto de no pérdida no ganancia.

Solución:

$$I(x) = 8,35x \quad C(x) = 7,25x + 2116 \quad B(x) = 8,35x - 7,25x - 2116 = 1,1x - 2116$$

$$\text{a) } B(x) = -1150 \leftrightarrow 1,1x - 2116 = -1150 \leftrightarrow x = \frac{-1150+2116}{1,1} = 878,18$$

$$\text{b) } B(x) = 0 \leftrightarrow 1,1x - 2116 = 0 \leftrightarrow x = \frac{2116}{1,1} \leftrightarrow x = 1923,63$$