

**TEMA 3.**

**Aplicaciones de Integrales**

- 1) Dada la curva, en el primer cuadrante, cuya fórmula está dada por la expresión  $f(x) = 3 - \frac{1}{3} \cdot x^2$ , calcular el volumen engendrado por la rotación de ella, alrededor del eje "x", si  $0 \leq x \leq 3$ . (Expresar la respuesta como fracción de  $\pi$ ). Graficar el sólido logrado.

**Resolución:** Vamos a graficar la curva recurriendo a un software. La misma es la que se puede ver a continuación.



Al hacer rotar la curva alrededor del eje de las "x" resulta un sólido aproximadamente así



Para calcular el volumen debemos aplicar su fórmula de cálculo:

$$V = \pi \int_a^b f^2(x) dx \Rightarrow V = \pi \int_0^3 \left( 3 - \frac{1}{3} \cdot x^2 \right)^2 \cdot dx$$

Si hacemos el cuadrado de binomio, luego integramos y por último aplicamos la regla de Barrow, resulta:

$$V = \pi \int_0^3 \left( 9 - 2x^2 + \frac{1}{9} x^4 \right) \cdot dx = \pi \cdot \left[ \left( 9x - \frac{2}{3} x^3 + \frac{1}{45} x^5 \right) \right]_0^3 = \pi \cdot \left[ 27 - 18 + \frac{27}{5} \right] = \frac{72}{5} \pi$$

$V = \frac{72}{5} \pi$  (unidades cúbicas)

# F.A.D.U. - MATEMATICA II – On line - Cát: Blumenfarb

## Curso 2018–2<sup>do</sup> Parcial – 24/11/2018 – Resuelto

b) Calcular las coordenadas del centro de gravedad de la superficie que delimita la curva definida anteriormente, con el eje de abscisas.

**Resolución:**

Calculemos previamente el área del recinto:

$$A = \int_a^b [f(x)] dx = \int_0^3 \left(3 - \frac{1}{3}x^2\right) dx = \left(3x - \frac{1}{9}x^3\right) \Big|_0^3$$

$$A = 9 - 3 = 6$$

Aplicando las fórmulas del centro de gravedad para áreas planas tenemos que:

$$x_g = \frac{\int_a^b x \cdot [f(x)] dx}{A} \qquad y_g = \frac{\int_a^b [f^2(x)] dx}{2 \cdot A}$$



$$x_g = \frac{\int_0^3 x \cdot \left[3 - \frac{1}{3}x^2\right] dx}{6} = \frac{1}{6} \cdot \int_0^3 \left[3x - \frac{1}{3}x^3\right] dx = \frac{1}{6} \cdot \left[\frac{3}{2}x^2 - \frac{1}{12}x^4\right]_0^3 = \frac{1}{6} \cdot \left[\left(\frac{27}{2}\right) - \left(\frac{27}{4}\right)\right] = \frac{9}{8}$$

$$y_g = \frac{\int_0^3 \left[3 - \frac{1}{3}x^2\right]^2 dx}{12} = \frac{\int_0^3 \left[9 - 2x^2 + \frac{1}{9}x^4\right] dx}{12} = \frac{1}{12} \left[\left(9x - \frac{2}{3}x^3 + \frac{1}{45}x^5\right)\right]_0^3 = \frac{1}{12} \left[27 - 18 + \frac{27}{5}\right] = \frac{6}{5}$$

Luego:  $G = \left(\frac{9}{8}, \frac{6}{5}\right)$

### Probabilidades y Estadística

3) En una universidad donde se estudia agronomía se dictan dos tipos de cursos de posgrado para los ingenieros egresados, pero no pueden hacerse en forma simultánea debido a la carga horaria. Ellos son los de "Alimentación balanceada del ganado" (45% del total de alumnos) e "Inseminación Artificial del ganado" (55% restante).

Entre los que eligieron "Alimentación balanceada" el 25% ya trabaja en ello, pero busca perfeccionarse con algunas nuevas normas o la existencia de nuevos software de apoyo. Lo mismo ocurre con los que optaron por "Inseminación Artificial" aunque esta cifra es del 35%.

Si del total de alumnos inscriptos para éste año, se elige uno de ellos al azar calcular:

- a) La probabilidad de que se trate de uno que ya trabaja como ingeniero agrónomo de una de esas especialidades.
- b) La probabilidad de que tratándose de uno que trabaja en la especialidad que está estudiando, el mismo sea un miembro del curso de "Alimentación balanceada".

a) **Resolución:**

A: "Es alumno de Alimentación balanceada"

I: "Es alumno de Inseminación Artificial"

T: "Trabaja en esa especialidad"

$$P(A) = 0,45$$

$$P(I) = 0,55$$

$$P(T/A) = 0,25$$

$$P(T/I) = 0,35$$

$$P(T) = P(T \cap A) + P(T \cap I) = P\left(\frac{T}{A}\right) \cdot P(A) + P\left(\frac{T}{I}\right) \cdot P(I) = 0,45 \cdot 0,25 + 0,55 \cdot 0,35$$

$P(T) = 0,305$

# F.A.D.U. - MATEMATICA II – On line - Cát: Blumenfarb

## Curso 2018–2<sup>do</sup> Parcial – 24/11/2018 – Resuelto

b) Resolución:

$$P(A/T) = \frac{P(A \cap T)}{P(T)} = \frac{P(\bar{T}_A) \cdot P(A)}{P(T)} = \frac{0,45 \cdot 0,25}{0,305} = .$$

Entonces  $P(A/T) \cong 0,369$

4) En un horno de la provincia de Santiago del Estero se produce carbón de leña. La producción diaria que es aproximadamente de 25000 bolsas y se envasa manualmente en bolsas de 5Kg. El envasado de las mismas, sigue un comportamiento normal, con media, como dijimos de 5Kg y desvío estándar de 100gr (o sea 0,100Kg). Calcular la probabilidad de que:

- Una bolsa elegida al azar de la producción diaria pese más de 5,20Kg.
- ¿Cuántas bolsas del total se espera que pesen entre 4,9Kg y 5,2Kg?
- ¿Hasta qué valor de peso se encuentran en 70% de las bolsas más livianas?

**Resolución:** Previamente debemos unificar las unidades para poder estandarizarlas. Dado que la variable es una

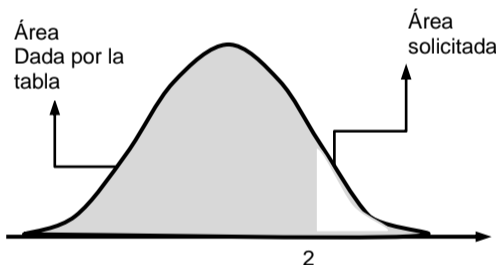
variable aleatoria normal con  $\begin{cases} \mu = 5 \\ \sigma = 0,100 \end{cases}$

a) Una bolsa elegida al azar pese más de 5,2Kg.

Para  $X > 5,2$

Vamos a pasar a unidades estándar el valor 5,2:  $z = \frac{x - \mu}{\sigma} = \frac{5,25 - 5}{0,100} = 2$

Para poder deducirlo vamos a esquematizar una campana de Gauss que permita llegar a la respuesta.



Buscamos entonces en la tabla el valor 2 (en la columna z y encontramos que le corresponde un valor de 0,9772. resulta:

$$P(Z < 2) = 0,9772 \quad P(x > 2) = 1 - 0,9772 = 0,0228$$

b) ¿Cuántas bolsas se espera que pesen entre 4,9Kg y 5,2Kg?

Procedemos de la misma manera que en el punto anterior, entonces:

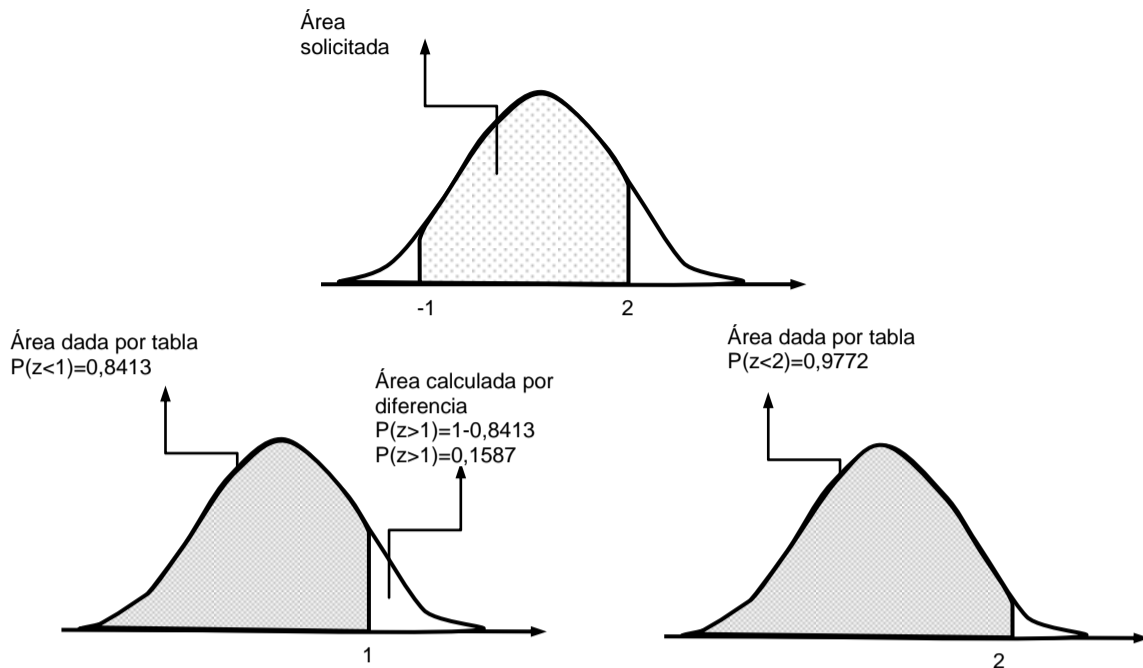
4,9 Kg en unidades estándar:  $z = \frac{x - \mu}{\sigma} = \frac{4,9 - 5,0}{0,1} = -1$

5,2 Kg en unidades estándar fue calculado anteriormente y es  $z = 2$

Luego,  $P(4,9 \leq X \leq 5,2) = P(-1 \leq Z \leq 2)$

Como lo buscado es el área comprendida entre los dos valores de X y además la tabla no contiene valores negativos, debemos hacerlo por simetría como se indica a continuación.

Buscamos en la tabla los valores necesarios que resultan ser:



Entonces:  $P(-1 < Z < 2) = P(-\infty < Z < 2) - P(Z > 1)$ ,

$$P(-2 < Z < 1,5) = 0,9772 - 0,1587 = 0,8185$$

La cantidad de bolsas de hielo viene dada por el producto entre el total fabricado y la probabilidad de que ello ocurra:

$$N = 25000 \text{ bolsas} \cdot 0,8185 \cong 20463$$

$$N \cong 20463$$

Es de esperar que haya esa cantidad de bolsas en ese intervalo.

**c) ¿Hasta qué valor de peso se encuentran en 70% de las bolsas más livianas?**

Ahora el problema es al revés, queremos conocer a un valor de variable, no de probabilidad.

Queremos, en ésta ocasión que  $P(x < a) = 0,70$

Ese valor en la tabla no existe exactamente, con lo cual aproximamos al más cercano  $P(x < a) = 0,70$  y le corresponde a 0,52.

Dado que:  $z = \frac{x - \mu}{\sigma} = \frac{x - 5,0}{0,100} < 0,70 \Rightarrow x - 5,0 < 0,07 \Rightarrow x < 5,07$

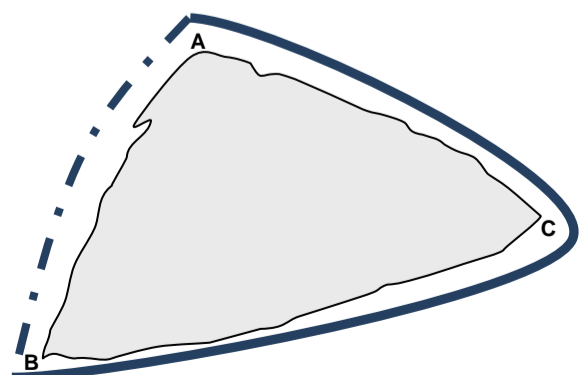
Entonces, aquellas bolsas que tengan menos de 5,07Kg se encuentran entre el 70% de las más livianas.

**Topografía**

**5) Una laguna, de forma aproximadamente triangular, posee en dos de sus tramos, un camino que la rodea (línea llena) y se proyecta construir el tercer tramo (línea punteada) como se muestra en la figura. Un agrimensor, considerando que posee esa forma, determina mediante herramientas los siguientes datos:**

$$|\overline{AC}| = 2650m ; |\overline{BC}| = 3320m \quad \hat{C} = 62^\circ 20' . \text{ Calcular}$$

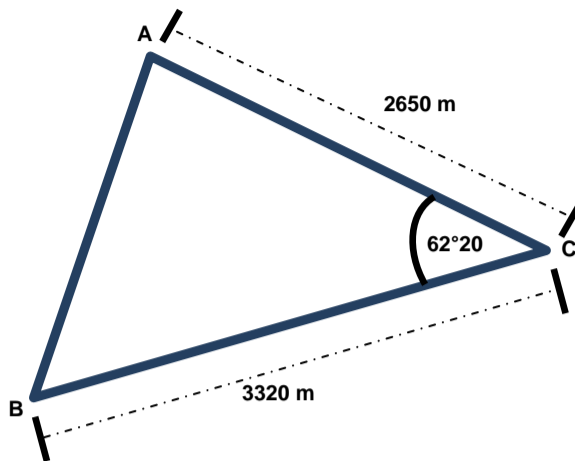
- a) La longitud aproximada del tramo AB restante.
- b) La superficie ocupada por la misma, medida en hectáreas si  $1Ha = 10\,000\,m^2$ .



# F.A.D.U. - MATEMATICA II – On line - Cát: Blumenfarb

## Curso 2018–2<sup>do</sup> Parcial – 24/11/2018 – Resuelto

a) **Resolución:** Vamos a realizar una figura a análisis que sea triangular.



Acorde con los datos, podemos aplicar el teorema de Coseno. Así tenemos que:

$$|\overline{AB}|^2 = |\overline{AC}|^2 + |\overline{BC}|^2 - 2 \cdot |\overline{AC}| \cdot |\overline{BC}| \cdot \cos \hat{C}$$

Aquí, reemplazando por los datos resulta:

$$|\overline{AB}|^2 = (2650\text{m})^2 + (3320\text{m})^2 - 2 \cdot (2650\text{m}) \cdot (3320\text{m}) \cdot \cos(62^\circ 20')$$

De donde:  $|\overline{AB}| = \sqrt{(2650\text{m})^2 + (3320\text{m})^2 - 2 \cdot (2650\text{m}) \cdot (3320\text{m}) \cdot \cos(62^\circ 20')}$

Luego:  $|\overline{AB}| \cong 3142\text{m}$

b) **Resolución:** Para calcular el área ocupada debemos aplicar la fórmula de Herón:

$$A = \sqrt{p \cdot (p - a) \cdot (p - b) \cdot (p - c)} \quad \text{donde } a, b \text{ y } c \text{ son los lados del triángulo y } p \text{ es el semiperímetro.}$$

En nuestro caso  $p = \frac{3142\text{m} + 2650\text{m} + 3320\text{m}}{2} = 4556\text{m}$

Reemplazando en la fórmula anterior resulta:

$$A = \sqrt{4556\text{m} \cdot (4556\text{m} - 3142\text{m}) \cdot (4556\text{m} - 2650\text{m}) \cdot (4556\text{m} - 3320\text{m})}$$

$$A \cong 3895716 \text{ m}^2$$

Como cada hectárea corresponde a  $10000\text{m}^2$  el área ocupada resulta aproximadamente.

$A \cong 389,6 \text{ ha}$