

1. Un vector \vec{v} tiene módulo 5 y es tal que $\cos \alpha = \frac{1}{5}$; siendo α el ángulo que forma el vector con el eje x .
Escribir la expresión cartesiana del o los vectores \vec{v} sabiendo que su segunda y tercera componentes suman cero.

$$\text{Sea } \vec{v} = (v_x; v_y; v_z) \text{ tal que } |\vec{v}| = 5; \cos \alpha = \frac{1}{5} \wedge v_y + v_z = 0$$

$$\cos \alpha = \frac{1}{5} \rightarrow \cos \alpha = \frac{v_x}{|\vec{v}|} \rightarrow \frac{1}{5} = \frac{v_x}{5} \rightarrow \boxed{v_x = 1}$$

$$v_y + v_z = 0 \rightarrow \boxed{v_y = -v_z}$$

$$\vec{v} = (v_x; v_y; v_z) \rightarrow |\vec{v}| = \sqrt{(v_x)^2 + (v_y)^2 + (v_z)^2} = 5 \rightarrow (v_x)^2 + (v_y)^2 + (v_z)^2 = 25$$

$$1^2 + (-v_z)^2 + (v_z)^2 = 25 \rightarrow 2(v_z)^2 = 24 \rightarrow |v_z| = \sqrt{12} \rightarrow \boxed{v_z = -\sqrt{12} \vee v_z = \sqrt{12}}$$

$$\vec{v} = (v_x; v_y; v_z) = (1; -\sqrt{12}; \sqrt{12}) \rightarrow \boxed{\vec{v} = 1\vec{i} - \sqrt{12}\vec{j} + \sqrt{12}\vec{k}}$$

v

$$\vec{v} = (v_x; v_y; v_z) = (1; \sqrt{12}; -\sqrt{12}) \rightarrow \boxed{\vec{v} = 1\vec{i} + \sqrt{12}\vec{j} - \sqrt{12}\vec{k}}$$

2. Dada la ecuación $-x^2 + 4y^2 + z^2 + 2z + A = 0$, se pide:

- a) Hallar el o los valores de A para que la superficie represente: **i)** un hiperboloide de una hoja.
ii) un hiperboloide de dos hojas.

- b)** Identificar la superficie en el caso en que $A = 1$.

- c)** Si $A = -3$, identificar la traza de la superficie obtenida con el plano yz .

a) $-x^2 + 4y^2 + (z + 1)^2 = 1 - A$

i) Si $1 - A > 0 \rightarrow A < 1 \rightarrow$ **Hiperboloide de una hoja**

ii) Si $1 - A < 0 \rightarrow A > 1 \rightarrow$ **Hiperboloide de dos hojas**

b) Si $A = 1 \rightarrow -x^2 + 4y^2 + (z + 1)^2 = 0 \rightarrow$ **Superficie cónica de eje x**

c) Si $A = -3 \rightarrow -x^2 + 4y^2 + (z + 1)^2 = 4 \rightarrow$ **Hiperboloide de una hoja de eje x**

Traza con plano $yz \rightarrow x = 0$

$4y^2 + (z + 1)^2 = 4 \rightarrow y^2 + \frac{(z+1)^2}{4} = 1 \rightarrow$ **Elipse**

3. Sean las rectas: $r_1: (x; y; z) = (2; -3; 5) + \lambda(2; -1; 3)$ y $r_2: \frac{x-1}{m} = \frac{y}{2} = \frac{z+1}{-2}$, se pide:

a) Hallar el valor del parámetro m para que las rectas sean perpendiculares.

b) Hallar la ecuación del plano π que sea perpendicular a la recta r_1 y que pase por el punto $(-1; 0; 2)$.

a) Si $r_1 \perp r_2 \rightarrow (2; -1; 3) \cdot (m; 2; -2) = 0 \rightarrow 2m - 2 - 6 = 0 \rightarrow m = 4$

b) Si $\pi \perp r_1$ y debe pasar por $(-1; 0; 2) \rightarrow (x + 1; y; z - 2) \cdot (2; -1; 3) = 0 \rightarrow$

$$2(x + 1) - y + 3(z - 2) = 0 \rightarrow 2x - y + 3z - 4 = 0$$

4. Sea la curva $z - 1 = 2y^2$, se pide hallar la ecuación de la superficie de revolución generada por la rotación de la curva anterior alrededor del:

a) eje z .

b) eje y .

c) Indicar si las superficies de los incisos anteriores corresponden a superficies cuádricas, en caso afirmativo identificar cuando sea posible.

a) Eje de rotación $z \rightarrow z - 1 = 2 \cdot (\sqrt{x^2 + y^2})^2 \rightarrow z - 1 = 2x^2 + 2y^2$

Es una cuádrica, Paraboloides Circular de eje z

b) Eje de rotación $y \rightarrow \sqrt{x^2 + z^2} - 1 = 2y^2 \rightarrow x^2 + z^2 = (2y^2 + 1)^2$

No es una cuádrica.

5. a) Hallar la ecuación de la elipse con centro en el origen de coordenadas y con eje focal x sabiendo que pasa por el punto $P = (9; -4)$ y que su eje mayor es igual al triple del eje menor.

$$\frac{x^2}{a^2} + \frac{y^2}{b^2} = 1 \wedge a = 3b$$

$$\frac{x^2}{(3b)^2} + \frac{y^2}{b^2} = 1 \wedge P = (9; -4)$$

$$\frac{9^2}{9b^2} + \frac{(-4)^2}{b^2} = 1 \Rightarrow \frac{81}{9b^2} + \frac{16}{b^2} = 1 \Rightarrow \frac{9}{b^2} + \frac{16}{b^2} = 1 \Rightarrow \frac{9+16}{b^2} = 1 \Rightarrow \frac{25}{b^2} = 1 \Rightarrow b^2 = 25 \Rightarrow \boxed{b=5} \wedge \boxed{a=15}$$

$$\Rightarrow \boxed{\frac{x^2}{225} + \frac{y^2}{25} = 1}$$

b) Determinar sus elementos.

$$\boxed{\frac{x^2}{225} + \frac{y^2}{25} = 1} \quad \boxed{C = (0; 0)}$$

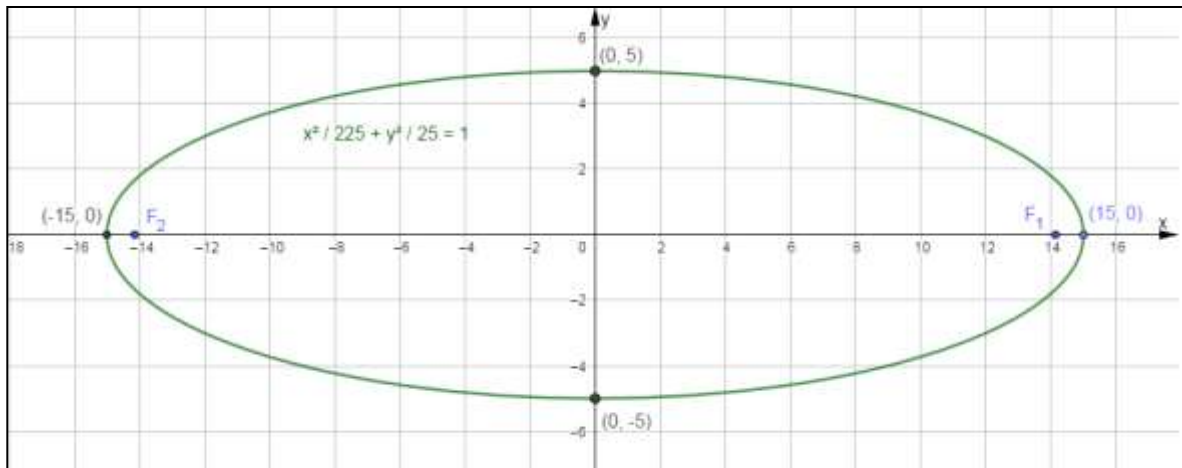
$$\boxed{V_1 = (15; 0)} \quad \boxed{V_2 = (-15; 0)} \quad \boxed{V_3 = (0; 5)} \quad \boxed{V_4 = (0; -5)}$$

$$a^2 = b^2 + c^2 \Rightarrow c^2 = a^2 - b^2 \Rightarrow c = \sqrt{225 - 25} = \sqrt{200} = 10\sqrt{2}$$

$$\Rightarrow \boxed{c = 10\sqrt{2}} \quad \therefore \boxed{F_1 = (10\sqrt{2}; 0)} \quad \boxed{F_2 = (-10\sqrt{2}; 0)}$$

$$e = \frac{c}{a} = \frac{10\sqrt{2}}{15} = \frac{2\sqrt{2}}{3} \Rightarrow \boxed{e = \frac{2\sqrt{2}}{3}}$$

c) Representar la cónica.



TEMA B

1	2			3		4			5		
	a)	b)	c)	a)	b)	a)	b)	c)	a)	b)	c)

1. Un vector \vec{v} tiene módulo 6 y es tal que $\cos \gamma = \frac{1}{3}$; siendo γ el ángulo que forma el vector con el eje z.

Escribir la expresión cartesiana del o los vectores \vec{v} sabiendo que la diferencia entre su primera y segunda componentes es cero.

Sea $\vec{v} = (v_x; v_y; v_z)$ tal que $|\vec{v}| = 6$; $\cos \gamma = \frac{1}{3} \wedge v_x - v_y = 0$

$$\cos \gamma = \frac{1}{3} \rightarrow \cos \gamma = \frac{v_z}{|\vec{v}|} = \frac{v_z}{6} = \frac{1}{3} \rightarrow v_z = 2$$

$$v_x - v_y = 0 \rightarrow v_y = v_x$$

$$|\vec{v}| = \sqrt{(v_x)^2 + (v_y)^2 + (v_z)^2} = 6 \rightarrow (v_x)^2 + (v_y)^2 + (v_z)^2 = 36$$

$$(v_x)^2 + (v_x)^2 + 2^2 = 36 \rightarrow 2(v_x)^2 = 32 \rightarrow |v_x| = \sqrt{16} = 4$$

$$\vec{v} = (v_x; v_y; v_z) = (4; 4; 2) \rightarrow \boxed{\vec{v} = 4\vec{i} + 4\vec{j} + 2\vec{k}}$$

∨

$$\vec{v} = (v_x; v_y; v_z) = (-4; -4; 2) \rightarrow \boxed{\vec{v} = -4\vec{i} - 4\vec{j} + 2\vec{k}}$$

2. Dada la ecuación $2x^2 + y^2 - z^2 + 6y + B = 0$, se pide:

- a) Hallar el o los valores de B para que la superficie represente: i) un hiperboloide de una hoja.
 ii) un hiperboloide de dos hojas.
- b) Identificar la superficie en el caso en que $B = 9$.
- c) Si $B = 5$, identificar la traza de la superficie obtenida con el plano xy .

a) $2x^2 + (y + 3)^2 - z^2 = 9 - B$

i) Si $9 - B > 0 \rightarrow B < 9 \rightarrow$ Hiperboloide de una hoja

ii) Si $9 - B < 0 \rightarrow B > 9 \rightarrow$ Hiperboloide de dos hojas

b) Si $B = 9 \rightarrow 2x^2 + (y + 3)^2 - z^2 = 0 \rightarrow$ Superficie cónica de eje z

c) Si $B = 5 \rightarrow 2x^2 + (y + 3)^2 - z^2 = 4 \rightarrow$ Hiperboloide de una hoja de eje z

Traza con plano $xy \rightarrow z = 0$

$$2x^2 + (y + 3)^2 = 4 \rightarrow \frac{x^2}{2} + \frac{(y+3)^2}{4} = 1 \rightarrow \text{Elipse}$$

3. Sean las rectas: $r_1: (x; y; z) = (1; -2; 4) + \lambda(-1; m; 4)$ y $r_2: \frac{x+2}{2} = \frac{y-1}{-2} = \frac{z}{-3}$, se pide:

a) Hallar el valor del parámetro m para que las rectas sean perpendiculares.

b) Hallar la ecuación del plano π que sea perpendicular a la recta r_1 y que pase por el punto $(-2; 1; 3)$.

a) Si $r_1 \perp r_2 \rightarrow (-1; m; 4) \cdot (2; -2; -3) = 0 \rightarrow -2 - 2m - 12 = 0 \rightarrow m = -7$

b) Si $\pi \perp r_2$ y debe pasar por $(-2; 1; 3) \rightarrow (x + 2; y - 1; z - 3) \cdot (2; -2; -3) = 0 \rightarrow$

$$2(x + 2) - 2(y - 1) - 3(z - 3) = 0 \rightarrow 2x - 2y - 3z + 15 = 0$$

4. Sea la curva $x - 2 = 3z^2$, se pide hallar la ecuación de la superficie de revolución generada por la rotación de la curva anterior alrededor del:

a) eje x .

b) eje z .

c) Indicar si las superficies de los incisos anteriores corresponden a superficies cuádricas, en caso afirmativo identificar cuando sea posible.

a) Eje de rotación $x \rightarrow x - 2 = 3 \cdot (\sqrt{y^2 + z^2})^2 \rightarrow x - 2 = 3y^2 + 3z^2$

Es una cuádrica, Paraboloides Circulares de eje x

b) Eje de rotación $z \rightarrow \sqrt{x^2 + y^2} - 2 = 3z^2 \rightarrow x^2 + y^2 = (3z^2 + 2)^2$

No es una cuádrica.

5. a) Hallar la ecuación de la elipse con centro en el origen de coordenadas y con eje focal y sabiendo que pasa por el punto $P = (-4; 9)$ y que su eje mayor es igual al triple del eje menor.

$$\frac{x^2}{b^2} + \frac{y^2}{a^2} = 1 \wedge a = 3b$$

$$\frac{x^2}{b^2} + \frac{y^2}{(3b)^2} = 1 \wedge P = (-4; 9)$$

$$\frac{(-4)^2}{b^2} + \frac{9^2}{9b^2} = 1 \Rightarrow \frac{16}{b^2} + \frac{81}{9b^2} = 1 \Rightarrow \frac{16}{b^2} + \frac{9}{b^2} = 1 \Rightarrow \frac{16+9}{b^2} = 1 \Rightarrow \frac{25}{b^2} = 1 \Rightarrow b^2 = 25 \Rightarrow \boxed{b=5} \wedge \boxed{a=15}$$

$$\Rightarrow \boxed{\frac{x^2}{25} + \frac{y^2}{225} = 1}$$

b) Determinar sus elementos.

$$\boxed{\frac{x^2}{25} + \frac{y^2}{225} = 1} \quad \boxed{C = (0; 0)}$$

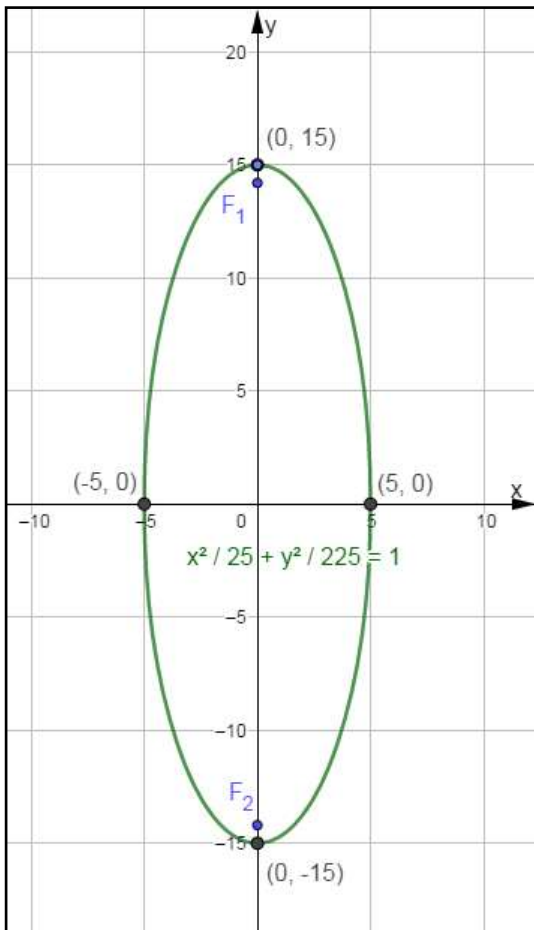
$$\boxed{V_1 = (5; 0)} \quad \boxed{V_2 = (-5; 0)} \quad \boxed{V_3 = (0; 15)} \quad \boxed{V_4 = (0; -15)}$$

$$a^2 = b^2 + c^2 \Rightarrow c^2 = a^2 - b^2 \Rightarrow c = \sqrt{225 - 25} = \sqrt{200} = 10\sqrt{2}$$

$$\Rightarrow \boxed{c = 10\sqrt{2}} \quad \therefore \quad \boxed{F_1 = (0; 10\sqrt{2})} \quad \boxed{F_2 = (0; -10\sqrt{2})}$$

$$\varepsilon = \frac{c}{a} = \frac{10\sqrt{2}}{15} = \frac{2\sqrt{2}}{3} \Rightarrow \boxed{\varepsilon = \frac{2\sqrt{2}}{3}}$$

c) Representar la cónica.



TEMA C

1	2			3		4			5		
	a)	b)	c)	a)	b)	a)	b)	c)	a)	b)	c)

1. Un vector \vec{v} tiene módulo 8 y es tal que $\cos \beta = \frac{1}{4}$; siendo β el ángulo que forma el vector con el eje y .

Escribir la expresión cartesiana del o los vectores \vec{v} sabiendo que su primera y tercera componentes suman cero.

Sea $\vec{v} = (v_x; v_y; v_z)$ tal que $|\vec{v}| = 8$; $\cos \beta = \frac{1}{4} \wedge v_x + v_z = 0$

$$\cos \beta = \frac{1}{4} \rightarrow \cos \beta = \frac{v_y}{|\vec{v}|} = \frac{v_y}{8} = \frac{1}{4} \rightarrow v_y = 2$$

$$v_x + v_z = 0 \rightarrow v_z = -v_x$$

$$|\vec{v}| = \sqrt{(v_x)^2 + (v_y)^2 + (v_z)^2} = 8 \rightarrow (v_x)^2 + (v_y)^2 + (v_z)^2 = 64$$

$$(v_x)^2 + 2^2 + (-v_x)^2 = 64 \rightarrow 2(v_x)^2 = 60 \rightarrow |v_x| = \sqrt{30}$$

$$\vec{v} = (v_x; v_y; v_z) = (\sqrt{30}; 2; -\sqrt{30}) \rightarrow \boxed{\vec{v} = \sqrt{30}\vec{i} + 2\vec{j} - \sqrt{30}\vec{k}}$$

v

$$\vec{v} = (v_x; v_y; v_z) = (-\sqrt{30}; 2; \sqrt{30}) \rightarrow \boxed{\vec{v} = -\sqrt{30}\vec{i} + 2\vec{j} + \sqrt{30}\vec{k}}$$

2. Dada la ecuación $4x^2 - y^2 + z^2 - 10z + C = 0$, se pide:

- a) Hallar el o los valores de C para que la superficie represente: i) un hiperboloide de una hoja;
ii) un hiperboloide de dos hojas.

b) Identificar la superficie en el caso en que $C = 25$.

c) Si $C = 9$, identificar la traza de la superficie obtenida con el plano xz .

a) $4x^2 - y^2 + (z - 5)^2 = 25 - C$

i) Si $25 - C > 0 \rightarrow C < 25 \rightarrow$ Hiperboloide de una hoja

ii) Si $25 - C < 0 \rightarrow C > 25 \rightarrow$ Hiperboloide de dos hojas

b) Si $C = 25 \rightarrow 4x^2 - y^2 + (z - 5)^2 = 0 \rightarrow$ Superficie cónica de eje y

c) Si $C = 9 \rightarrow 4x^2 - y^2 + (z - 5)^2 = 16 \rightarrow$ Hiperboloide de una hoja de eje y

Traza con plano $xz \rightarrow y = 0$

$$4x^2 + (z - 5)^2 = 16 \rightarrow \frac{x^2}{4} + \frac{(z-5)^2}{16} = 1 \rightarrow \text{Elipse}$$

3. Sean las rectas: $r_1: (x; y; z) = (-1; 0; 3) + \lambda(-2; 2; -6)$ y $r_2: \frac{x}{m} = \frac{y-1}{1} = \frac{z+2}{-3}$, se pide:

a) Hallar el valor del parámetro m para que las rectas sean paralelas.

b) Hallar la ecuación del plano π que sea perpendicular a la recta r_1 y que pase por el punto $(2; -1; 4)$.

a) Si $r_1 \parallel r_2 \rightarrow \frac{m}{-2} = \frac{1}{2} = \frac{-3}{-6} \rightarrow \frac{m}{-2} = \frac{1}{2} \rightarrow m = -1$

b) Si $\pi \perp r_1$ y debe pasar por $(2; -1; 4) \rightarrow (x - 2; y + 1; z - 4) \cdot (-2; 2; -6) = 0 \rightarrow$
 $-2(x - 2) + 2(y + 1) - 6(z - 4) = 0 \rightarrow -2x + 2y - 6z + 30 = 0$

4. Sea la curva $y + 1 = 2z^2$, se pide hallar la ecuación de la superficie de revolución generada por la rotación de la curva anterior alrededor del:

a) eje z

b) eje y

c) Indicar si las superficies de los incisos anteriores corresponden a superficies cuádricas, en caso afirmativo identificar cuando sea posible.

a) Eje de rotación $z \rightarrow \sqrt{x^2 + y^2} + 1 = 2z^2 \rightarrow x^2 + y^2 = (2z^2 - 1)^2$

No es una cuádrica.

b) Eje de rotación $y \rightarrow y + 1 = 2(\sqrt{x^2 + z^2})^2 \rightarrow y + 1 = 2x^2 + 2z^2$

Sí es una cuádrica, es un Paraboloides Circular de eje y .

5. a) Hallar la ecuación de la elipse con centro en el origen de coordenadas y con eje focal x sabiendo que pasa por el punto $P = (-8; 3)$ y que su eje mayor es igual al doble del eje menor.

$$\frac{x^2}{a^2} + \frac{y^2}{b^2} = 1 \wedge a = 2b$$

$$\frac{x^2}{(2b)^2} + \frac{y^2}{b^2} = 1 \wedge P = (-8; 3)$$

$$\frac{(-8)^2}{4b^2} + \frac{3^2}{b^2} = 1 \Rightarrow \frac{64}{4b^2} + \frac{9}{b^2} = 1 \Rightarrow \frac{16}{b^2} + \frac{9}{b^2} = 1 \Rightarrow \frac{16+9}{b^2} = 1 \rightarrow \frac{25}{b^2} = 1 \Rightarrow b^2 = 25 \Rightarrow \boxed{b=5} \wedge \boxed{a=10} \Rightarrow \boxed{\frac{x^2}{100} + \frac{y^2}{25} = 1}$$

b) Determinar sus elementos.

$$\boxed{\frac{x^2}{100} + \frac{y^2}{25} = 1} \quad \boxed{C = (0; 0)}$$

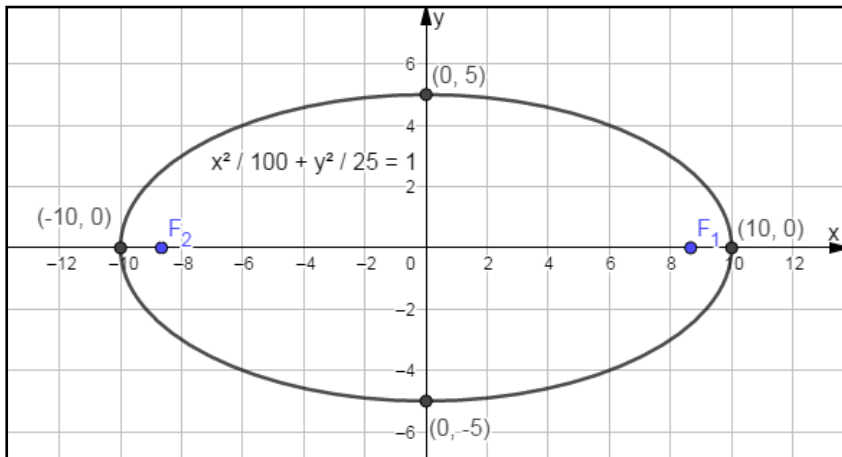
$$\boxed{V_1 = (10; 0)} \quad \boxed{V_2 = (-10; 0)} \quad \boxed{V_3 = (0; 5)} \quad \boxed{V_4 = (0; -5)}$$

$$a^2 = b^2 + c^2 \Rightarrow c^2 = a^2 - b^2 \Rightarrow c = \sqrt{100 - 25} = \sqrt{75} = 5\sqrt{3}$$

$$\Rightarrow \boxed{c = 5\sqrt{3}} \quad \therefore \boxed{F_1 = (5\sqrt{3}; 0)} \quad \boxed{F_2 = (-5\sqrt{3}; 0)}$$

$$e = \frac{c}{a} = \frac{5\sqrt{3}}{10} = \frac{\sqrt{3}}{2} \Rightarrow \boxed{e = \frac{\sqrt{3}}{2}}$$

c) Representar la cónica.



TEMA D

1	2			3		4			5		
	a)	b)	c)	a)	b)	a)	b)	c)	a)	b)	c)

1. Un vector \vec{v} tiene módulo 7 y es tal que $\cos \gamma = \frac{3}{7}$; siendo γ el ángulo que forma el vector con el eje z.

Escribir la expresión cartesiana del o los vectores \vec{v} sabiendo que la diferencia entre la primera y segunda componentes es cero.

$$\text{Sea } \vec{v} = (v_x; v_y; v_z) \text{ tal que } |\vec{v}| = 7; \cos \gamma = \frac{3}{7} \wedge v_x - v_y = 0$$

$$\cos \gamma = \frac{1}{7} \rightarrow \cos \gamma = \frac{v_z}{|\vec{v}|} = \frac{v_z}{7} = \frac{3}{7} \rightarrow v_z = 3$$

$$v_x - v_y = 0 \rightarrow v_y = v_x$$

$$|\vec{v}| = \sqrt{(v_x)^2 + (v_y)^2 + (v_z)^2} = 7 \rightarrow (v_x)^2 + (v_y)^2 + (v_z)^2 = 49$$

$$(v_x)^2 + (v_x)^2 + 3^2 = 49 \rightarrow 2(v_x)^2 = 40 \rightarrow |v_x| = \sqrt{20}$$

$$\vec{v} = (v_x; v_y; v_z) = (\sqrt{20}; \sqrt{20}; 3) \rightarrow \vec{v} = \sqrt{20}\vec{i} + \sqrt{20}\vec{j} + 3\vec{k}$$

∨

$$\vec{v} = (v_x; v_y; v_z) = (-\sqrt{20}; -\sqrt{20}; 3) \rightarrow \vec{v} = -\sqrt{20}\vec{i} - \sqrt{20}\vec{j} + 3\vec{k}$$

2. Dada la ecuación $x^2 + 2y^2 - z^2 - 4x + D = 0$, se pide:

a) Hallar el o los valores de D para que la superficie represente: i) un hiperboloide de una hoja.

ii) un hiperboloide de dos hojas.

b) Identificar la superficie en el caso en que $D = 4$.

c) Si $D = 2$, identificar la traza de la superficie obtenida con el plano xy .

a) $(x - 2)^2 + 2y^2 - z^2 = 4 - D$

i) Si $4 - D > 0 \rightarrow D < 4 \rightarrow$ **Hiperboloide de una hoja**

ii) Si $4 - D < 0 \rightarrow D > 4 \rightarrow$ **Hiperboloide de dos hojas**

b) Si $D = 4 \rightarrow (x - 2)^2 + 2y^2 - z^2 = 0 \rightarrow$ **Superficie cónica de eje z**

c) Si $D = 2 \rightarrow (x - 2)^2 + 2y^2 - z^2 = 2 \rightarrow$ **Hiperboloide de una hoja de eje z**

Traza con plano $xy \rightarrow z = 0$

$$(x - 2)^2 + 2y^2 = 2 \rightarrow \frac{(x-2)^2}{2} + y^2 = 1 \rightarrow \text{Elipse}$$

3. Sean las rectas: $r_1: (x; y; z) = (2; -1; 3) + \lambda(3; m; -6)$ y $r_2: \frac{x-1}{-1} = \frac{y+3}{4} = \frac{z}{2}$, se pide:

a) Hallar el valor del parámetro m para que las rectas sean paralelas.

b) Hallar la ecuación del plano π que sea perpendicular a la recta r_2 y que pase por el punto $(3; -2; 1)$.

a) Si $r_1 \parallel r_2 \rightarrow \frac{3}{-1} = \frac{m}{4} = \frac{-6}{2} \rightarrow \frac{m}{4} = \frac{-6}{2} \rightarrow m = -12$

b) Si $\pi \perp r_2$ y debe pasar por $(3; -2; 1) \rightarrow (x-3; y+2; z-1) \cdot (-1; 4; 2) = 0 \rightarrow$

$$-(x-3) + 4(y+2) + 2(z-1) = 0 \rightarrow -x + 4y + 2z + 9 = 0$$

4. Sea la curva $x - 1 = 3y^2$, se pide hallar la ecuación de la superficie de revolución generada por la rotación de la curva anterior alrededor del:

a) eje x .

b) eje y .

c) Indicar si las superficies de los incisos anteriores corresponden a superficies cuádricas, en caso afirmativo identificar cuando sea posible.

a) Eje de rotación $x \rightarrow x - 1 = 3(\sqrt{y^2 + z^2})^2 \rightarrow x - 1 = 3y^2 + 3z^2$

Sí es una cuádrica, es un Paraboloides Circular de eje x .

b) Eje de rotación $y \rightarrow \sqrt{x^2 + z^2} - 1 = 3y^2 \rightarrow x^2 + z^2 = (3y^2 + 1)^2$

No es una cuádrica.

5.

a) Hallar la ecuación de la elipse con centro en el origen de coordenadas y con eje focal y sabiendo que pasa por el punto $P = (3; -8)$ y que su eje mayor es igual al doble del eje menor.

$$\frac{x^2}{b^2} + \frac{y^2}{a^2} = 1 \wedge a = 2b$$

$$\frac{x^2}{b^2} + \frac{y^2}{(2b)^2} = 1 \wedge P = (3; -8)$$

$$\frac{3^2}{b^2} + \frac{(-8)^2}{4b^2} = 1 \Rightarrow \frac{9}{b^2} + \frac{64}{4b^2} = 1 \Rightarrow \frac{9}{b^2} + \frac{16}{b^2} = 1 \Rightarrow \frac{9+16}{b^2} = 1 \Rightarrow \frac{25}{b^2} = 1 \Rightarrow b^2 = 25 \Rightarrow \boxed{b=5} \wedge \boxed{a=10} \Rightarrow \boxed{\frac{x^2}{25} + \frac{y^2}{100} = 1}$$

b) Determinar sus elementos

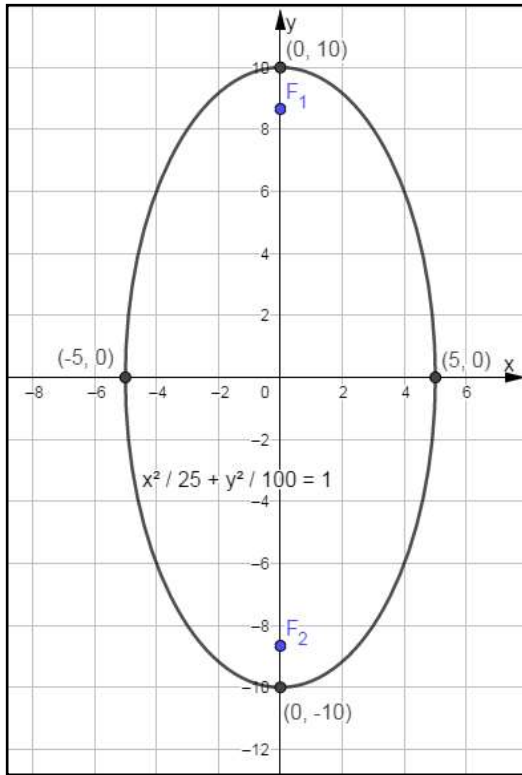
$$\boxed{\frac{x^2}{25} + \frac{y^2}{100} = 1} \quad \boxed{C = (0;0)}$$

$$\boxed{V_1 = (5;0)} \quad \boxed{V_2 = (-5;0)} \quad \boxed{V_3 = (0;10)} \quad \boxed{V_4 = (0;-10)}$$

$$a^2 = b^2 + c^2 \Rightarrow c^2 = a^2 - b^2 \Rightarrow c = \sqrt{100 - 25} = \sqrt{75} = 5\sqrt{3}$$

$$\Rightarrow \boxed{c = 5\sqrt{3}} \quad \therefore \boxed{F_1 = (0;5\sqrt{3})} \quad \boxed{F_2 = (0;-5\sqrt{3})}$$

$$\varepsilon = \frac{c}{a} = \frac{5\sqrt{3}}{10} = \frac{\sqrt{3}}{2} \Rightarrow \boxed{\varepsilon = \frac{\sqrt{3}}{2}}$$



c) Representar la cónica