

**MATEMÁTICA II (10026)**  
**BLOQUE I: Funciones de una y varias variables**  
**TRABAJO PRÁCTICO 1**

1- Hallar el dominio de definición de la función:

$$f(x) = \sqrt{\frac{2-x}{x+2}}$$

**Solución:**

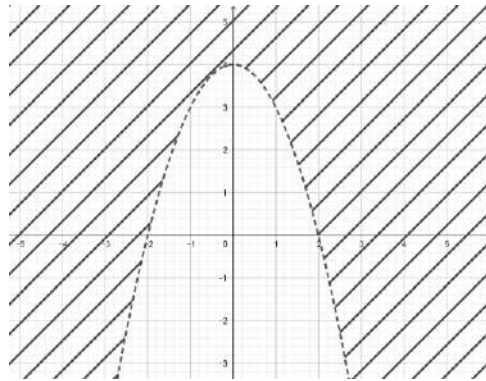
$$\begin{aligned} \frac{2-x}{x+2} &\geq 0 \quad y \quad x+2 \neq 0 \\ 2-x \geq 0 \quad y \quad x+2 > 0 \quad o \quad 2-x \leq 0 \quad y \quad x+2 < 0 \\ x \leq 2 \quad y \quad x > -2 \quad o \quad x \geq 2 \quad y \quad x < -2 \\ -2 < x \leq 2 \quad o \quad \emptyset \\ \text{Dom}f &= (-2; 2] \end{aligned}$$

2- Graficar el dominio de definición de:

$$f(x; y) = \log_2(x^2 + y - 4)$$

**Solución**

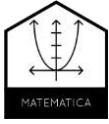
$$x^2 + y - 4 > 0 \Rightarrow y > -x^2 + 4$$



3- Una compañía determina que si produce y vende  $x$  unidades de un producto, el ingreso total por las ventas será de  $100 \cdot \sqrt{x}$ . Si el costo variable por unidad es de \$ 2 y el costo fijo de \$ 1200; encontrar el/los valores de cantidad de productos a producir y vender para que la empresa no obtenga ganancia pero tampoco pierda.

**Solución**

Para obtener la cantidad de productos a producir y vender para que la empresa no obtenga ganancia pero tampoco pierda, hay que plantear la función de beneficio y buscar para que valores da cero.



## MATEMÁTICA II (10026)

### BLOQUE I: Funciones de una y varias variables

#### TRABAJO PRÁCTICO 1

Como  $B(x) = I(x) - C(x)$ , donde  $x$  es la cantidad de unidades producidas y vendidas, se deben establecer las funciones  $I$  y  $C$

La función  $I$  está dada en el enunciado y es  $I(x) = 100 \cdot \sqrt{x}$

Para la función  $C$  están los datos

- costo variable por unidad es de \$ 2
- costo fijo de \$ 1200

Luego  $C(x) = 1200 + 2 \cdot x$

Entonces el beneficio es:

$$B(x) = 100 \cdot \sqrt{x} - (1200 + 2 \cdot x) = 100 \cdot \sqrt{x} - 1200 - 2 \cdot x$$

Y para hallar la cantidad de productos a producir y vender para que la empresa no obtenga ganancia pero tampoco pierda, hay que hallar  $x$  tal que  $B(x) = 0$

$$\begin{aligned} 100 \cdot \sqrt{x} - 1200 - 2 \cdot x &= 0 \Rightarrow 100 \cdot \sqrt{x} = 1200 + 2 \cdot x \Rightarrow 50 \cdot \sqrt{x} = 600 + x \Rightarrow \\ &\Rightarrow 2500x = 360000 + 1200x + x^2 \Rightarrow 0 = x^2 - 1300x + 360000 \Rightarrow \\ &\Rightarrow x = \frac{1300 \pm \sqrt{1300^2 - 4 \cdot 360000}}{2} \Rightarrow x = 400 \quad \text{o} \quad x = 900 \end{aligned}$$

Rta: se deben producir y vender 400 unidades o 900 unidades

- 4- La producción de un bien está dada por  $P(x; y) = 5 \cdot \sqrt[3]{x \cdot y^2}$ , donde  $x$  e  $y$  son cantidades de dos insumos distintos para producir dicho bien. Determinar la isocuanta correspondiente a producir 10 unidades y graficarla.

**Solución:**

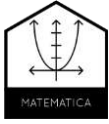
Como la isocuanta es la curva de nivel, en este caso hay que determinar la curva que cumple que:

$$5 \cdot \sqrt[3]{x \cdot y^2} = 10 \Rightarrow \sqrt[3]{x \cdot y^2} = 2 \Rightarrow x \cdot y^2 = 8 \Rightarrow_{x \neq 0} y^2 = \frac{8}{x} \Rightarrow_{\substack{y \geq 0 \\ x \geq 0}} y = \frac{2\sqrt{2}}{\sqrt{x}}$$

Las condiciones que se pusieron para obtener la expresión de  $y$  son válidas porque en este caso tanto  $x$  como  $y$  representan cantidades de insumos y por lo tanto son no negativas. En el caso que  $x = 0$ ,  $P(0; y) = 0$  y por lo tanto no pertenece a la curva de nivel pedida.

Luego hay que graficar

$$y = \frac{2\sqrt{2}}{\sqrt{x}} = 2\sqrt{2} \cdot x^{-1/2}$$

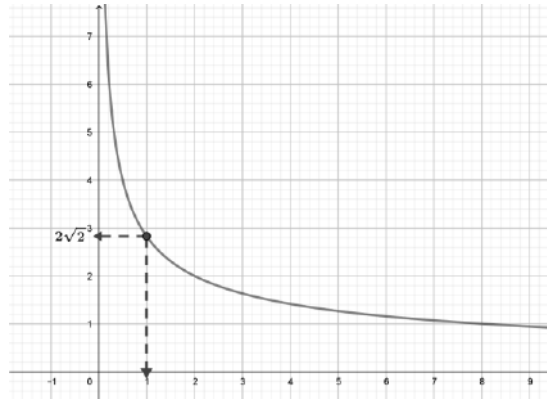


## MATEMÁTICA II (10026)

### BLOQUE I: Funciones de una y varias variables

#### TRABAJO PRÁCTICO 1

Como es una función potencial con exponente negativo, su gráfica aproximada es:



5- Dada la sucesión

$$a_n = (-1)^n \cdot \frac{3^n}{n!}, n \geq 0$$

Dar los tres primeros términos de la serie que genera.

**Solución:**

Como hay que hallar los 3 primeros términos de la serie que genera, primero busco los 5 primeros términos de la sucesión:

$$a_0 = (-1)^0 \cdot \frac{3^0}{0!} = 1 \quad a_1 = (-1)^1 \cdot \frac{3^1}{1!} = -3 \quad a_2 = (-1)^2 \cdot \frac{3^2}{2!} = \frac{9}{2}$$

Entonces:

$$s_0 = 1 \quad s_1 = 1 - 3 = -2 \quad s_2 = -2 + \frac{9}{2} = \frac{5}{2}$$