



RESOLUCION EVALUACION N° 1

TURNO N° 1:

1- Dada: $f(x) = (x-1)^2$ determinar:

a) Dominio e Imagen

Dominio: Al ser una función polinomial, el dominio no tendrá restricciones: $Df = \{\forall x \in R\}$

Imagen: Se debe completar cuadrados:

$$y = (x-1)^2 \rightarrow \pm\sqrt{y} + 1 = x \rightarrow x = 1 \pm \sqrt{y}$$

Luego la imagen será:

$$If = \{\forall y \in R / y \geq 0\}$$

b) Inversa, en caso de ser necesario restrinja el dominio.

Inyectiva: Planteamos: $f(x_1) = f(x_2)$, entonces:
$$\begin{cases} f(x_1) = (x_1 - 1)^2 \\ f(x_2) = (x_2 - 1)^2 \end{cases}$$

$$(x_1 - 1)^2 = (x_2 - 1)^2 \rightarrow (x_1 - 1) = (x_2 - 1) \rightarrow \text{se genera el módulo: } \sqrt{(x_1 - 1)^2} = \sqrt{(x_2 - 1)^2}$$

$$\text{entonces: } |x_1 - 1| = |x_2 - 1|$$

Se deben analizar los módulos:

$$|x_1 - 1| = \begin{cases} (x_1 - 1) & \text{si } x_1 \geq 1 \text{ (a)} \\ -(x_1 - 1) & \text{si } x_1 < 1 \text{ (b)} \end{cases} \quad |x_2 - 1| = \begin{cases} (x_2 - 1) & \text{si } x_2 \geq 1 \text{ (c)} \\ -(x_2 - 1) & \text{si } x_2 < 1 \text{ (d)} \end{cases} \quad \text{haciendo las}$$

combinaciones posibles:

$$\begin{array}{l} \left. \begin{array}{l} \text{(a) y (c)} \quad x_1 - 1 = x_2 - 1 \quad \rightarrow \quad x_1 = x_2 \\ \text{(a) y (d)} \quad x_1 - 1 = -x_2 + 1 \quad \rightarrow \quad x_1 = 2 - x_2 \\ \text{(b) y (c)} \quad -x_1 + 1 = x_2 - 1 \quad \rightarrow \quad x_1 = 2 - x_2 \\ \text{(b) y (d)} \quad -x_1 + 1 = -x_2 + 1 \quad \rightarrow \quad x_1 = x_2 \end{array} \right\} \text{concluimos : } \begin{cases} x_1 = x_2 \\ x_1 = 2 - x_2 \end{cases} \text{ con lo que se concluye que no} \end{array}$$

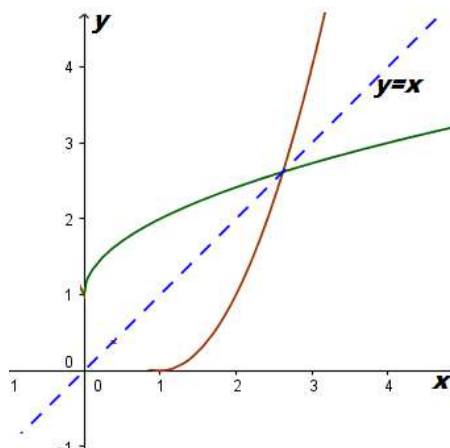
es inyectiva. Se debe restringir el dominio $D_R f = \{\forall x \in R / x \geq 1\}$

De esta manera solo se podrán considerar las expresiones comprendidas en este intervalo: (a) y (c) con lo cual se llega a: $x_1 = x_2$

Sobreyectiva: Si tenemos en cuenta que la imagen está restringida por el dominio, la función será sobreyectiva,

La función inversa será: $y = 1 + \sqrt{x}$

Gráfica de la función con su inversa.-





2- Calcular: $\lim_{x \rightarrow 4} \frac{\sqrt{x-2} - \sqrt{2}}{2 - \sqrt{x}}$ Se multiplica y divide por el conjugado del numerador y del

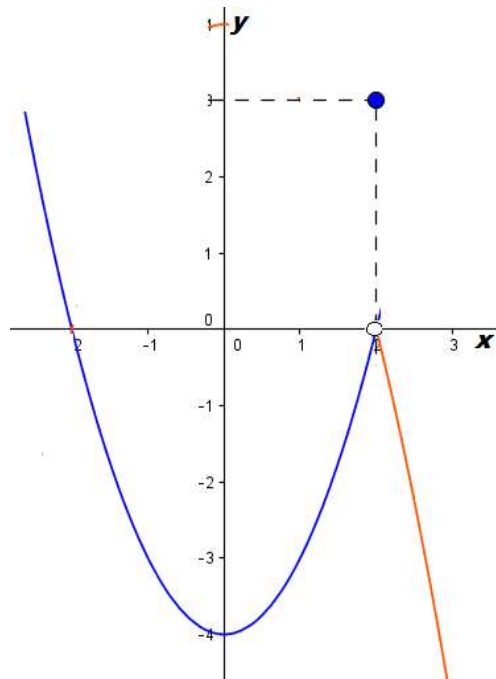
denominador: $\lim_{x \rightarrow 4} \frac{(\sqrt{x-2} - \sqrt{2})(2 + \sqrt{x})(\sqrt{x-2} + \sqrt{2})}{(2 - \sqrt{x})(2 + \sqrt{x})(\sqrt{x-2} + \sqrt{2})}$ luego se puede expresar:

$$\lim_{x \rightarrow 4} \frac{[(\sqrt{x-2})^2 - (\sqrt{2})^2](2 + \sqrt{x})}{[(2)^2 - (\sqrt{x})^2](\sqrt{x-2} + \sqrt{2})} = \lim_{x \rightarrow 4} \frac{[x-2-2](2 + \sqrt{x})}{[4-x](\sqrt{x-2} + \sqrt{2})} = \lim_{x \rightarrow 4} \frac{[x-4](2 + \sqrt{x})}{-[x-4](\sqrt{x-2} + \sqrt{2})}$$

$$= \lim_{x \rightarrow 4} -\frac{(2 + \sqrt{x})}{(\sqrt{x-2} + \sqrt{2})} = -\frac{(2 + \sqrt{4})}{(\sqrt{4-2} + \sqrt{2})} = -\frac{4}{2\sqrt{2}} \quad \text{finalmente: } \lim_{x \rightarrow 4} \frac{\sqrt{x-2} - \sqrt{2}}{2 - \sqrt{x}} = -\frac{2}{\sqrt{2}}$$

3- Dada: $f(x) = \begin{cases} x^2 - 4 & \text{si } x < 2 \\ 3 & \text{si } x = 2 \\ 4 - x^2 & \text{si } x > 2 \end{cases}$

a) Graficar la función dada



b) Analizar la continuidad en $x_0 = 2$

i) $f(2) = 3$

ii) $\lim_{x \rightarrow 2^+} 4 - x^2 = 0 \quad \wedge \quad \lim_{x \rightarrow 2^-} x^2 - 4 = 0 \quad \rightarrow \quad \lim_{x \rightarrow 2} f(x) = 0$

iii) $f(2) \neq \lim_{x \rightarrow 2} f(x)$



c) Redefinir en caso de ser necesario $f(x) = \begin{cases} x^2 - 4 & \text{si } x < 2 \\ 0 & \text{si } x = 2 \\ 4 - x^2 & \text{si } x > 2 \end{cases}$

4- Dada: $f(x) = \frac{x^3 - 1}{4 - x^2}$ determinar:

a) Asíntotas

VERTICALES: se debe analizar en $x = 2$ y $x = -2$

$$\left. \begin{array}{l} \lim_{x \rightarrow 2^+} \frac{x^3 - 1}{4 - x^2} = -\infty \\ \lim_{x \rightarrow 2^-} \frac{x^3 - 1}{4 - x^2} = +\infty \end{array} \right\} \text{En } x = 2 \exists \text{ Asíntota vertical}$$

$$\left. \begin{array}{l} \lim_{x \rightarrow -2^+} \frac{x^3 - 1}{4 - x^2} = -\infty \\ \lim_{x \rightarrow -2^-} \frac{x^3 - 1}{4 - x^2} = +\infty \end{array} \right\} \text{En } x = -2 \exists \text{ Asíntota vertical}$$

b) ASINTOTA HORIZONTAL

$$\lim_{x \rightarrow \infty} \frac{x^3 - 1}{4 - x^2} = \lim_{x \rightarrow \infty} \frac{x^3 \left(1 - \frac{1}{x^3}\right)}{x^3 \left(\frac{4}{x^3} - \frac{1}{x}\right)} = \lim_{x \rightarrow \infty} \frac{\left(1 - \frac{1}{x^3}\right)}{\left(\frac{4}{x^3} - \frac{1}{x}\right)} = \frac{1}{0} = \infty$$

No existe asíntota horizontal

ASINTOTA OBLICUA:

$$m = \lim_{x \rightarrow \infty} \frac{x^3 - 1}{4 - x^2} = \lim_{x \rightarrow \infty} \frac{x^3 - 1}{4x - x^3} = \lim_{x \rightarrow \infty} \frac{x^3 \left(1 - \frac{1}{x^3}\right)}{x^3 \left(\frac{4}{x^2} - 1\right)} = \lim_{x \rightarrow \infty} \frac{\left(1 - \frac{1}{x^3}\right)}{\left(\frac{4}{x^2} - 1\right)} = -1 \rightarrow m = -1$$

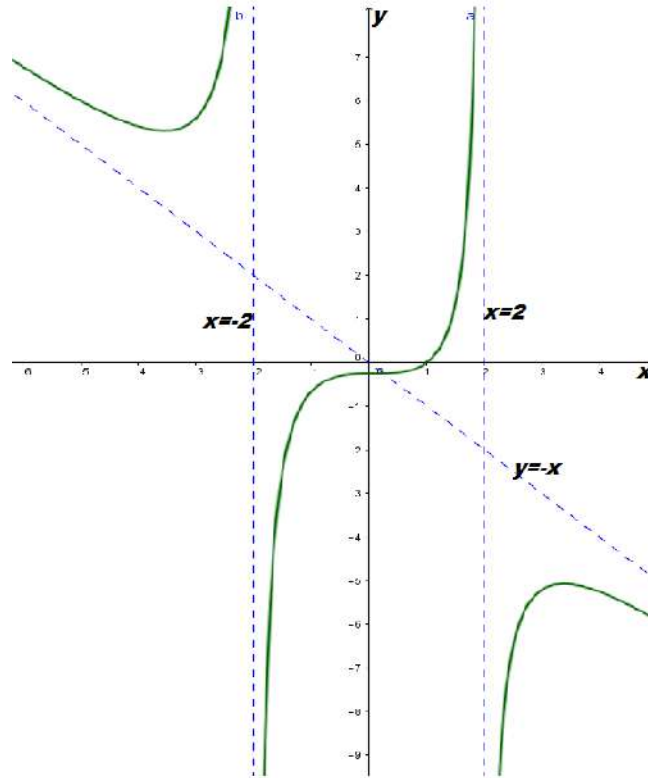
$$b = \lim_{x \rightarrow \infty} \frac{x^3 - 1}{4 - x^2} + x = \lim_{x \rightarrow \infty} \frac{x^3 - 1 + x(4 - x^2)}{4 - x^2} = \lim_{x \rightarrow \infty} \frac{x^3 - 1 + 4x - x^3}{4 - x^2} = \lim_{x \rightarrow \infty} \frac{-1 + 4x}{4 - x^2} =$$

$$b = \lim_{x \rightarrow \infty} \frac{x^2 \left(\frac{-1}{x^2} + \frac{4}{x}\right)}{x^2 \left(\frac{4}{x^2} - 1\right)} = \lim_{x \rightarrow \infty} \frac{\left(\frac{-1}{x^2} + \frac{4}{x}\right)}{\left(\frac{4}{x^2} - 1\right)} = 0 \rightarrow b = 0$$



La asíntota oblicua será: $y = -x$

c) Gráfica las asíntotas determinadas.-



TURNO N° 2:

1- Dada: $f(x) = -(x-1)^2$ determinar:

a) Dominio e Imagen

Dominio: Al ser una función polinomial, el dominio no tendrá restricciones: $Df = \{\forall x \in \mathbb{R}\}$

Imagen: Se debe completar cuadrados:

$$y = -(x-1)^2 \rightarrow \pm \sqrt{-y} + 1 = x \rightarrow x = 1 \pm \sqrt{-y}$$

Luego la imagen será:

$$If = \{\forall y \in \mathbb{R} / y \leq 0\}$$

b) Inversa, en caso de ser necesario restrinja el dominio.

Inyectiva: Planteamos: $f(x_1) = f(x_2)$, entonces:
$$\begin{cases} f(x_1) = -(x_1 - 1)^2 \\ f(x_2) = -(x_2 - 1)^2 \end{cases}$$

$-(x_1 - 1)^2 = -(x_2 - 1)^2 \rightarrow (x_1 - 1)^2 = (x_2 - 1)^2 \rightarrow$ se genera el módulo:

$$\sqrt{(x_1 - 1)^2} = \sqrt{(x_2 - 1)^2} \text{ entonces: } |x_1 - 1| = |x_2 - 1|$$

Se deben analizar los módulos:



UNIVERSIDAD CATOLICA DE SALTA

Facultad Economía y Administración

Materia: MATEMATICA I

Modalidad: No presencial

$$|x_1 - 1| = \begin{cases} (x_1 - 1) & \text{si } x_1 \geq 1 \text{ (a)} \\ -(x_1 - 1) & \text{si } x_1 < 1 \text{ (b)} \end{cases}$$

$$|x_2 - 1| = \begin{cases} (x_2 - 1) & \text{si } x_2 \geq 1 \text{ (c)} \\ -(x_2 - 1) & \text{si } x_2 < 1 \text{ (d)} \end{cases} \text{ haciendo las}$$

combinaciones posibles:

$$* \left. \begin{array}{l} \text{(a) y (c)} \quad x_1 - 1 = x_2 - 1 \quad \rightarrow \quad x_1 = x_2 \\ \text{(a) y (d)} \quad x_1 - 1 = -x_2 + 1 \quad \rightarrow \quad x_1 = 2 - x_2 \\ \text{(b) y (c)} \quad -x_1 + 1 = x_2 - 1 \quad \rightarrow \quad x_1 = 2 - x_2 \\ \text{(b) y (d)} \quad -x_1 + 1 = -x_2 + 1 \quad \rightarrow \quad x_1 = x_2 \end{array} \right\} \text{concluimos : } \begin{cases} x_1 = x_2 \\ x_1 = 2 - x_2 \end{cases} \text{ con lo que se concluye que no}$$

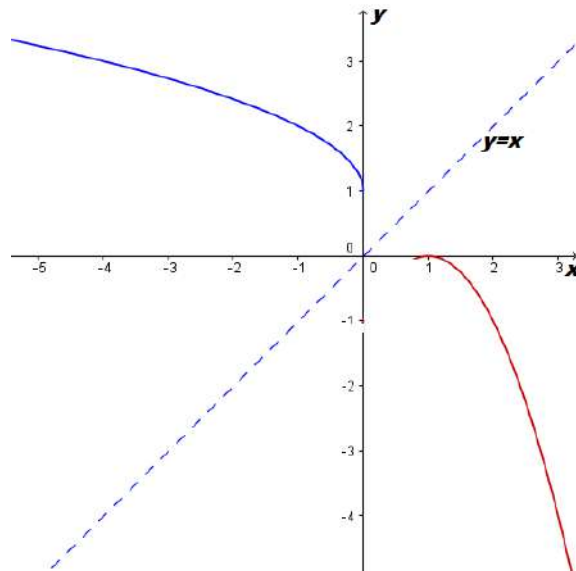
es infectiva. Se debe restringir el dominio $D_R f = \{\forall x \in \mathbb{R} / x \geq 1\}$

De esta manera solo se podrán considerar las expresiones comprendidas en este intervalo: (a) y (c) con lo cual se llega a: $x_1 = x_2$

Sobreyectiva: Si tenemos en cuenta que la imagen está restringida por el dominio, la función será sobreyectiva,

La función inversa será: $y = 1 + \sqrt{-x}$

Gráfica de la función con su inversa.-



5- Calcular $\lim_{x \rightarrow 4} \frac{\sqrt{x} - 2}{\sqrt{x-2} - \sqrt{2}}$ Se multiplica y divide por el conjugado del numerador y del

denominador: $\lim_{x \rightarrow 4} \frac{(\sqrt{x} - 2)(\sqrt{x} + 2)(\sqrt{x-2} + \sqrt{2})}{(\sqrt{x} + 2)(\sqrt{x-2} - \sqrt{2})(\sqrt{x-2} + \sqrt{2})}$ luego se puede expresar:

$$\lim_{x \rightarrow 4} \frac{[(\sqrt{x})^2 - (2)^2](\sqrt{x-2} + \sqrt{2})}{(\sqrt{x} + 2)[(\sqrt{x-2})^2 - (\sqrt{2})^2]} = \lim_{x \rightarrow 4} \frac{[x - 4](\sqrt{x-2} + \sqrt{2})}{(\sqrt{x} + 2)[x - 2 - 2]} = \lim_{x \rightarrow 4} \frac{[x - 4](\sqrt{x-2} + \sqrt{2})}{(\sqrt{x} + 2)[x - 4]}$$



UNIVERSIDAD CATOLICA DE SALTA

Facultad Economía y Administración

Materia: MATEMATICA I

Modalidad: No presencial

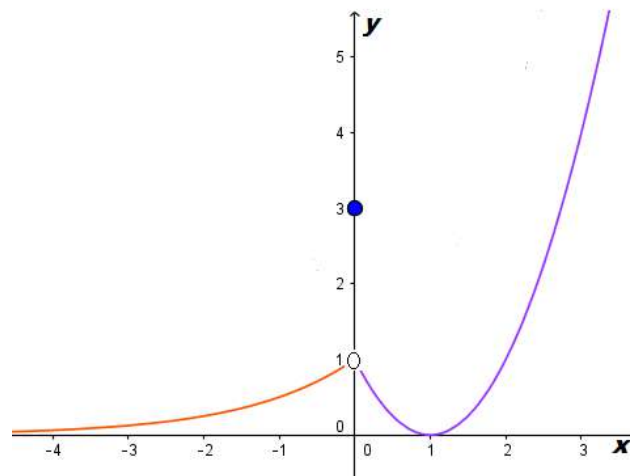
$$= \lim_{x \rightarrow 4} \frac{(\sqrt{x-2} + \sqrt{2})}{(\sqrt{x} + 2)} = \frac{(\sqrt{4-2} + \sqrt{2})}{(\sqrt{4} + 2)} = \frac{2\sqrt{2}}{4} = \frac{\sqrt{2}}{2}$$

finalmente:

$$\lim_{x \rightarrow 4} \frac{\sqrt{x-2}}{\sqrt{x-2} - \sqrt{2}} = \frac{\sqrt{2}}{2}$$

3) Dada: $f(x) = \begin{cases} 2^x & \text{si } x < 0 \\ 3 & \text{si } x = 0 \\ (x-1)^2 & \text{si } x > 0 \end{cases}$

a) Graficar la función dada



b) Analizar la continuidad en $x_0 = 0$

i) $f(0) = 3$

ii) $\lim_{x \rightarrow 0^-} 2^x = 1 \quad \wedge \quad \lim_{x \rightarrow 0^+} (x-1)^2 = 1 \quad \rightarrow \quad \lim_{x \rightarrow 0} f(x) = 1$

iii) $f(0) \neq \lim_{x \rightarrow 0} f(x)$

c) Redefinir en caso de ser necesario $f(x) = \begin{cases} 2^x & \text{si } x < 0 \\ 0 & \text{si } x = 0 \\ (x-1)^2 & \text{si } x > 0 \end{cases}$

4) Dada: $f(x) = \frac{2x^3}{x^2 - 1}$ determinar:

a) Asíntotas

VERTICALES: se debe analizar en $x = 1$ y $x = -1$



UNIVERSIDAD CATOLICA DE SALTA

Facultad Economía y Administración

Materia: MATEMATICA I

Modalidad: No presencial

$$\left. \begin{array}{l} \lim_{x \rightarrow 1^+} \frac{2x^3}{x^2 - 1} = +\infty \\ \lim_{x \rightarrow 1^-} \frac{2x^3}{x^2 - 1} = -\infty \end{array} \right\} \text{En } x = 1 \exists \text{ Asíntota vertical}$$

$$\left. \begin{array}{l} \lim_{x \rightarrow -1^+} \frac{2x^3}{x^2 - 1} = +\infty \\ \lim_{x \rightarrow -1^-} \frac{2x^3}{x^2 - 1} = -\infty \end{array} \right\} \text{En } x = -1 \exists \text{ Asíntota vertical}$$

d) ASINTOTA HORIZONTAL

$$\lim_{x \rightarrow \infty} \frac{2x^3}{x^2 - 1} = \lim_{x \rightarrow \infty} \frac{2x^3}{x^3 \left(\frac{1}{x} - \frac{1}{x^3} \right)} = \lim_{x \rightarrow \infty} \frac{2}{\left(\frac{1}{x} - \frac{1}{x^3} \right)} = \frac{2}{0} = \infty$$

No existe asíntota horizontal

ASINTOTA OBLICUA:

$$m = \lim_{x \rightarrow \infty} \frac{2x^3}{x^2 - 1} = \lim_{x \rightarrow \infty} \frac{2x^3}{x^3 - x} = \lim_{x \rightarrow \infty} \frac{2x^3}{x^3 \left(1 - \frac{1}{x^2} \right)} = \lim_{x \rightarrow \infty} \frac{2}{\left(1 - \frac{1}{x^2} \right)} = 2 \rightarrow m = 2$$

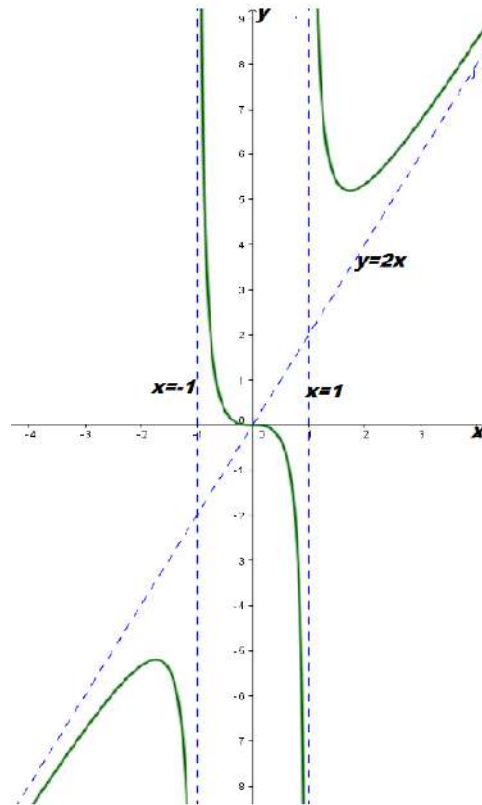
$$b = \lim_{x \rightarrow \infty} \frac{2x^3}{x^2 - 1} - 2x = \lim_{x \rightarrow \infty} \frac{2x^3 - 2x(x^2 - 1)}{x^2 - 1} = \lim_{x \rightarrow \infty} \frac{2x^3 - 2x^3 + 2x}{x^2 - 1} = \lim_{x \rightarrow \infty} \frac{2x}{x^2 - 1} =$$

$$b = \lim_{x \rightarrow \infty} \frac{x^2 \left(\frac{2}{x} \right)}{x^2 \left(1 - \frac{1}{x^2} \right)} = \lim_{x \rightarrow \infty} \frac{\frac{2}{x}}{\left(1 - \frac{1}{x^2} \right)} = 0 \rightarrow b = 0$$

La asíntota oblicua será: **y = x**



UNIVERSIDAD CATOLICA DE SALTA
Facultad Economía y Administración
Materia: MATEMATICA I
Modalidad: No presencial



NOTA: La evaluación se considerará como aprobada con la correcta resolución del 50% de los ejercicios planteados. Las evaluaciones domiciliarias deberán ser subidas al sistema dentro de los horarios previstos para cada turno. El alumno deberá consignar correctamente Nombre, DNI, Numero de UG- Se podrá trabajar directamente en este envío y luego publicar. No se aceptarán escaneos.- Los ejercicios deberán estar debidamente justificados.-

Prof. Ing. Eduardo Casado