

1.El Principio de escasez nos indica: **N**

Seleccione una:

- a. Una limitación en la comercialización de los productos.
- b. Una limitación en la fabricación de los bienes.
- c. Limitación en la práctica de la prestación de servicios.
- d. Una limitación en la existencia de los recursos para producir bienes y servicios.

Pregunta 2

Finalizado
Puntúa como 1,00

Marcar pregunta

Enunciado de la pregunta

El grado de satisfacción que le proporciona al individuo la unidad adicional del bien que consume, se denomina:

Seleccione una:

- a.
Utilidad total
- b.
Utilidad marginal
- c.
Utilidad relativa
- d. Ninguna de las anteriores

Pregunta 3

Finalizado
Puntúa como 1,00

Marcar pregunta

Enunciado de la pregunta

Un cambio en la cantidad demandada provoca **N**

Seleccione una:

- a. Desplazamiento de la curva de demanda.

- b. Desplazamiento de la curva de oferta.
- c. Cambio en la cantidad demandada.

Pregunta 4

Finalizado
Puntúa como 1,00

Marcar pregunta

Enunciado de la pregunta

Cuando estamos frente la etapa de rendimientos crecientes.....

Seleccione una:

- a. El costo medio y el producto medio son cada vez más bajos
- b. El costo medio crece y el producto medio decrece
- c. El costo medio decrece y el producto medio crece

Pregunta 5

Finalizado
Puntúa como 1,00

Marcar pregunta

Enunciado de la pregunta

En términos de costos se puede afirmar que

Seleccione una:

- a. En el largo plazo tendremos todos costos fijos
- b. En el corto plazo todos nuestros insumos son fijos
- c. En el largo plazo todos nuestros insumos son variables
- d. En el corto plazo todos nuestros insumos son variables

Pregunta 6

Finalizado
Puntúa como 1,00

Marcar pregunta

Enunciado de la pregunta

Un mercado de productos homogéneos con presencia de un gran número de vendedores se lo denomina:

Seleccione una:

- a. Competencia Perfecta
- b. Oligopolio
- c. Monopolio
- d. Coompetencia monopolística

Pregunta 7

Finalizado
Puntúa como 1,00

Marcar pregunta

Enunciado de la pregunta

Cuando las necesidades surgen del individuo las llamamos

Seleccione una:

- a. Colectivas o públicas
- b. Naturales
- c. Fisiológicas y culturales
- d. Ninguna de las anteriores

Pregunta 8

Finalizado
Puntúa como 1,00

Marcar pregunta

Enunciado de la pregunta

Las necesidades se clasifican en dos grandes grupos: **M**

Seleccione una o más de una:

- a. Civilización o Cíclicas
- b. Fisiológicas
- c. Físicas




d. Culturales o de civilización.

Pregunta 9

Finalizado

Puntúa como 1,00



Marcar pregunta

Enunciado de la pregunta

Las soluciones a las externalidades son:


Seleccione una:

- a. Negociación, cobro de impuestos y otorgamiento de subsidios
- b. Conciliación obligatoria, acciones legales y cobro de indemnizaciones
- c. Acuerdos privados
- d. Ninguna de las anteriores

Pregunta 10

Finalizado

Puntúa como 1,00



Marcar pregunta

Enunciado de la pregunta

Los bienes económicos son aquellos **M**


Seleccione una o más de una:

- a. Bienes propiamente dichos.
- b. Bienes que tiene un costo para poder adquirirlos.
- c. Se los puede clasificar en Bienes de consumo o de producción.

Pregunta 11

Finalizado

Puntúa como 1,00



Marcar pregunta

Enunciado de la pregunta

La utilidad total del consumo de un determinado bien aumenta hasta llegar a un punto a partir del cual comienza a disminuir, ¿cómo se lo denomina al mismo? **N**

Seleccione una:

- a. Punto mínimo.
- b. Punto de saciedad.
- c. Punto de gasto marginal

Pregunta 12

Finalizado
Puntúa como 1,00

Marcar pregunta

Enunciado de la pregunta

Al ingreso Total en términos de cantidad de bienes lo denominamos:

Seleccione una:

- a. Ingreso Total
- b. Ingreso medio
- c. Ingreso Marginal
- d. Ingreso Relativo

Pregunta 13

Finalizado
Puntúa como 1,00

Marcar pregunta

Enunciado de la pregunta

Cuando estamos frente a la etapa de rendimientos decrecientes

Seleccione una:

- a. El costo medio y el costo marginal son cada vez más bajos
- b. El costo medio y el costo marginal son cada vez más altos
- c. El costo medio y el costo marginal son constantes
- d. Ninguna de las anteriores

Pregunta 14

Finalizado

Puntúa como 1,00

Marcar pregunta

Enunciado de la pregunta

La industria automotriz, dentro de las formas de organización de los mercados, la consideramos:

Seleccione una:

- a. Competencia Perfecta
- b. Oligopolio
- c. Competencia Monopolística
- d. Monopolio

Pregunta 15

Finalizado

Puntúa como 1,00

Marcar pregunta

Enunciado de la pregunta

Cuando estamos frente la etapa de rendimientos decrecientes.....

Seleccione una:

- a. El costo medio y el producto medio son cada vez más bajos
- b. El costo medio crece y el producto medio decrece
- c. El costo medio decrece y el producto medio crece

Pregunta 16

Finalizado

Puntúa como 1,00

Marcar pregunta

Enunciado de la pregunta

Para L. Robin el objeto de estudio de la economía es: **N**

Seleccione una:

- a. La asignación de recursos escasos a necesidades múltiples.
- b. La asignación de recursos múltiples a necesidades escasas.
- c. La asignación de recursos simples a necesidades complejas.
- d. La asignación de recursos simples a necesidades regulares.

Pregunta 17

Finalizado

Puntúa como 1,00

Marcar pregunta

Enunciado de la pregunta

El método inductivo del procedimiento del análisis económico se refiere a **N**

Seleccione una:

- a. Formulación de hipótesis.
- b. Observación de un fenómeno.
- c. Cuestionar acerca de la razón por la que existe una relación.
- d. Contrastar las predicciones con datos.

Pregunta 18

Finalizado

Puntúa como 1,00

Marcar pregunta

Enunciado de la pregunta

Las necesidades son:

Seleccione una:

- a. ilimitadas en su capacidad de insatisfacción
- b. Limitadas en cantidad
- c. Limitadas en su capacidad de satisfacción
- d. Ninguna de las anteriores

Pregunta 19

Finalizado

Puntúa como 1,00

Marcar pregunta

Enunciado de la pregunta

Una prenda de vestir utilizada por un niño para vestirse es:

Seleccione una:

- a. Un bien de producción de uso único
- b. Un bien de producción de uso durable
- c. Un bien de consumo de uso durable
- d. Un bien de consumo de uso único

Pregunta 20

Finalizado

Puntúa como 1,00

Marcar pregunta

Enunciado de la pregunta

La relación que existe entre el precio de un bien y la cantidad que están dispuestos a ofrecer los productores a los distintos precios se denomina:

Seleccione una:

- a.
Demanda
- b. Demanda global
- c. Oferta global
- d. Oferta
- e. Ninguna de las anteriores